


Lecture d'une Horloge Analogique (H)

Nom: _____

Date: _____

Lisez chaque heure et écrivez-la dans l'espace sous l'horloge.

1.



Midi



Minuit

2.




Minuit



Midi

3.



Midi



Minuit

4.



Minuit



Midi

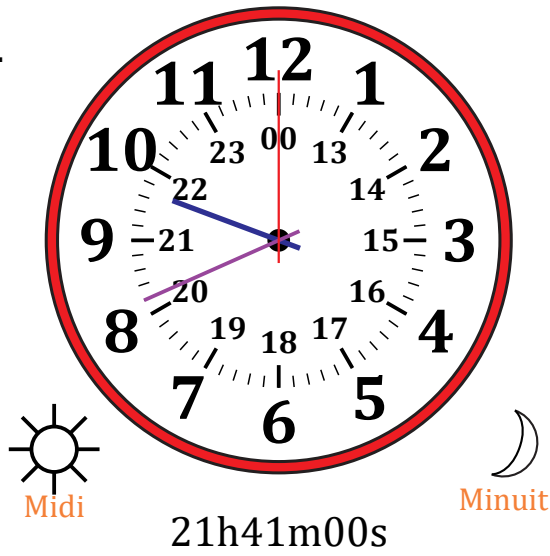
Lecture d'une Horloge Analogique (H) Solutions

Nom: _____

Date: _____

Lisez chaque heure et écrivez-la dans l'espace sous l'horloge.

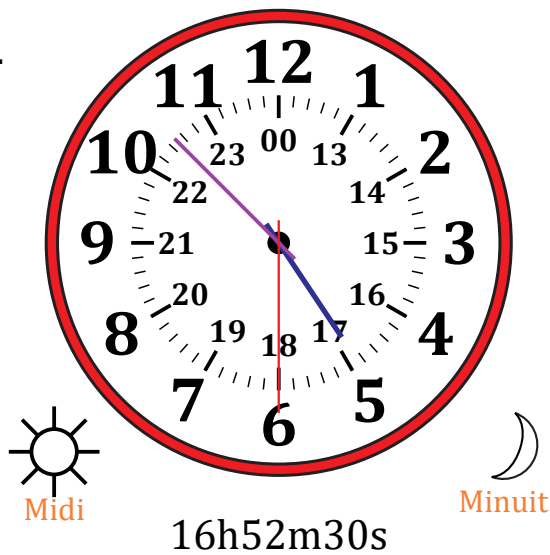
1.



2.



3.



4.

