


# Lecture d'une Horloge Analogique (G)

Nom: \_\_\_\_\_

Date: \_\_\_\_\_

Lisez chaque heure et écrivez-la dans l'espace sous l'horloge.

1.




  
Minuit

  
Midi

\_\_\_\_\_

2.




  
Minuit

  
Midi

\_\_\_\_\_

3.




  
Midi

  
Minuit

\_\_\_\_\_

4.



  
Midi

  
Minuit

\_\_\_\_\_

# Lecture d'une Horloge Analogique (G) Solutions

Nom: \_\_\_\_\_

Date: \_\_\_\_\_

Lisez chaque heure et écrivez-la dans l'espace sous l'horloge.

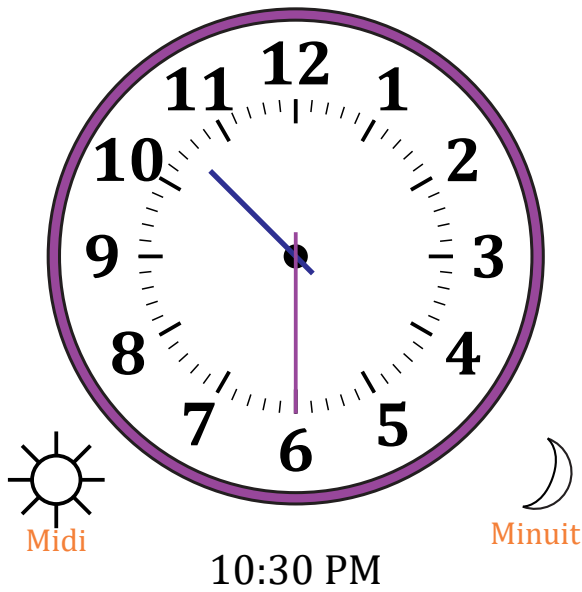
1.



2.



3.



4.

