

# Séquence de Nombres Linéaires (H)

Remplissez les nombres qui manquent de chaque nombre linéaire.




Différence commune: \_\_\_\_\_



Différence commune: \_\_\_\_\_



Différence commune: \_\_\_\_\_



Différence commune: \_\_\_\_\_



Différence commune: \_\_\_\_\_



Différence commune: \_\_\_\_\_




Différence commune: \_\_\_\_\_





Différence commune: \_\_\_\_\_


# Séquence de Nombres Linéaires (H) Réponses


Remplissez les nombres qui manquent de chaque nombre linéaire.


1.   
Différence commune:     -5    


2.   
Différence commune:     5    


3.   
Différence commune:    100   

4.   
Différence commune:    -5   

5.   
Différence commune:    50   

6.   
Différence commune:    50   

7.   
Différence commune:    75   

8.   
Différence commune:    100