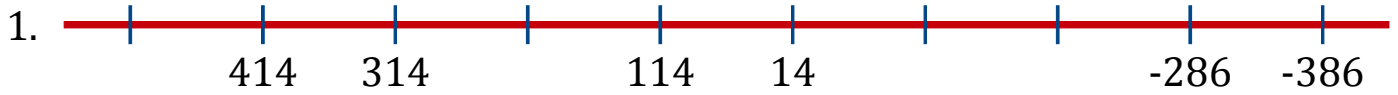


Séquence de Nombres Linéaires (H)

Remplissez les nombres qui manquent de chaque nombre linéaire.



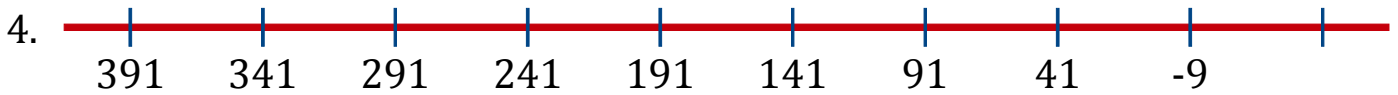
Différence commune: _____



Différence commune: _____



Différence commune: _____



Différence commune: _____



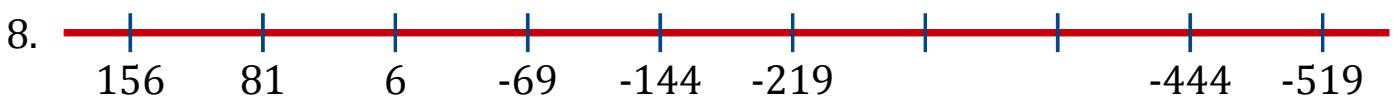
Différence commune: _____



Différence commune: _____



Différence commune: _____



Différence commune: _____