


Séquence de Nombres Linéaires (H)

Remplissez les nombres qui manquent de chaque nombre linéaire.



Différence commune: _____



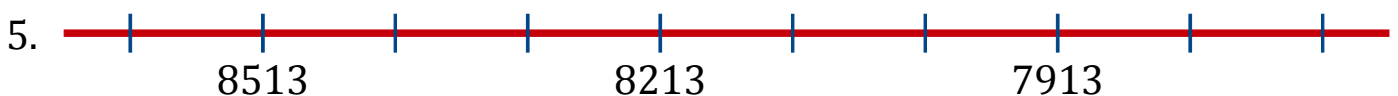
Différence commune: _____



Différence commune: _____



Différence commune: _____



Différence commune: _____



Différence commune: _____




Différence commune: _____





Différence commune: _____


Séquence de Nombres Linéaires (H) Réponses


Remplissez les nombres qui manquent de chaque nombre linéaire.


1. 
2338 2313 2288 2263 2238 2213 2188 2163 2138 2113
Différence commune: -25


2. 
5972 5897 5822 5747 5672 5597 5522 5447 5372 5297
Différence commune: -75


3. 
7298 7198 7098 6998 6898 6798 6698 6598 6498 6398
Différence commune: -100

4. 
3737 3727 3717 3707 3697 3687 3677 3667 3657 3647
Différence commune: -10

5. 
8613 8513 8413 8313 8213 8113 8013 7913 7813 7713
Différence commune: -100

6. 
8102 8052 8002 7952 7902 7852 7802 7752 7702 7652
Différence commune: -50

7. 
1605 1505 1405 1305 1205 1105 1005 905 805 705
Différence commune: -100

8. 
6996 6986 6976 6966 6956 6946 6936 6926 6916 6906
Différence commune: -10