

Droites Numériques (A)

Complétez cette droite numérique par les nombres manquants.



Différence commune: _____



Différence commune: _____



Différence commune: _____



Différence commune: _____



Différence commune: _____



Différence commune: _____



Différence commune: _____



Différence commune: _____

Droites Numériques (A) Réponses

Complétez cette droite numérique par les nombres manquants.



Différence commune: 1



Différence commune: 9



Différence commune: 8



Différence commune: 4



Différence commune: 5



Différence commune: 2




Différence commune: 8



Différence commune: 6

Droites Numériques (B)

Complétez cette droite numérique par les nombres manquants.



Différence commune: _____



Différence commune: _____



Différence commune: _____



Différence commune: _____



Différence commune: _____



Différence commune: _____



Différence commune: _____



Différence commune: _____

Droites Numériques (B) Réponses

Complétez cette droite numérique par les nombres manquants.



Différence commune: 10



Différence commune: 2



Différence commune: 4



Différence commune: 10



Différence commune: 10



Différence commune: 8



Différence commune: 5



Différence commune: 3

Droites Numériques (C)

Complétez cette droite numérique par les nombres manquants.



Différence commune: _____



Différence commune: _____



Différence commune: _____



Différence commune: _____



Différence commune: _____



Différence commune: _____



Différence commune: _____



Différence commune: _____

Droites Numériques (C) Réponses

Complétez cette droite numérique par les nombres manquants.



Différence commune: 1



Différence commune: 8



Différence commune: 6



Différence commune: 10



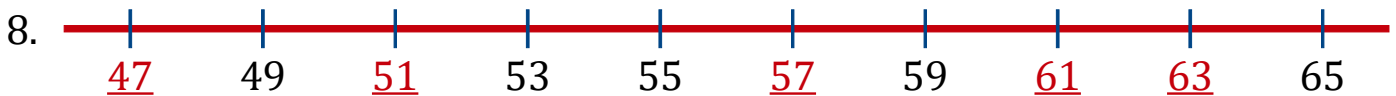
Différence commune: 2



Différence commune: 7



Différence commune: 5



Différence commune: 2

Droites Numériques (D)

Complétez cette droite numérique par les nombres manquants.



Différence commune: _____



Différence commune: _____



Différence commune: _____



Différence commune: _____



Différence commune: _____



Différence commune: _____



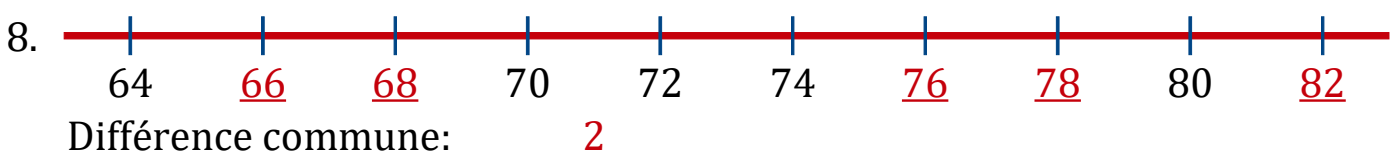
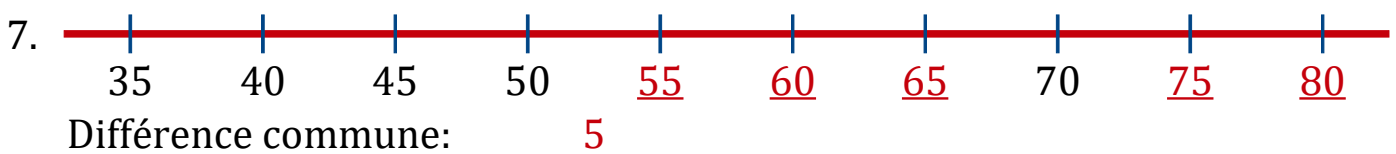
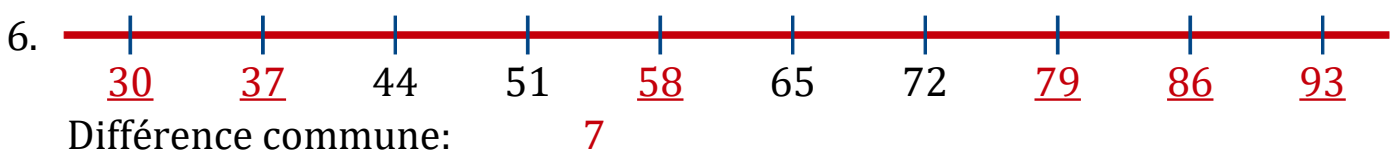
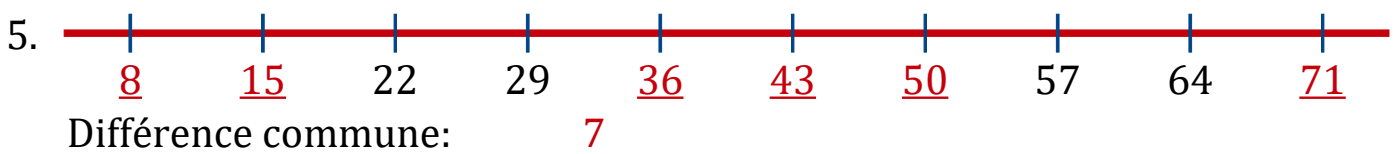
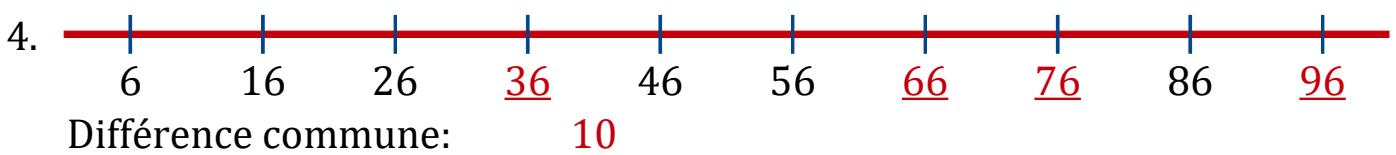
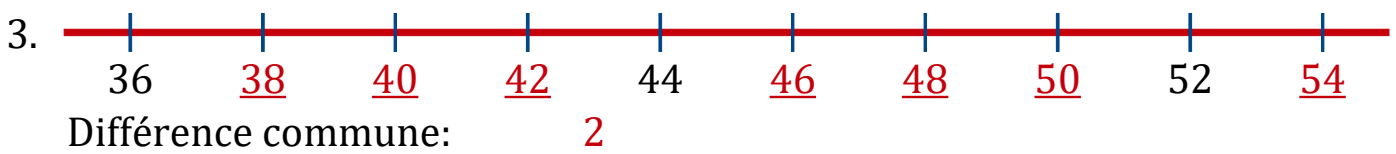
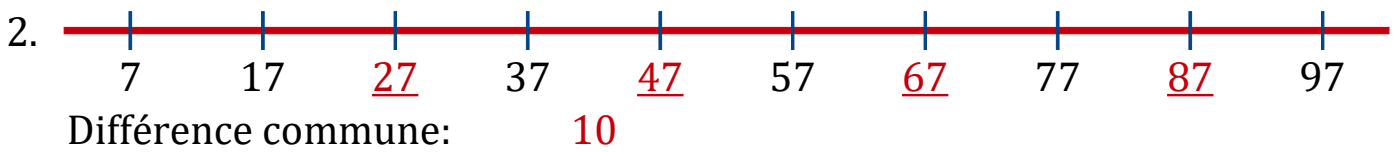
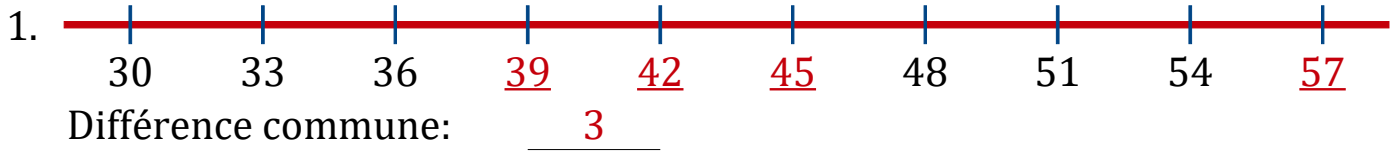
Différence commune: _____



Différence commune: _____


Droites Numériques (D) Réponses

Complétez cette droite numérique par les nombres manquants.



Droites Numériques (E)

Complétez cette droite numérique par les nombres manquants.



Différence commune: _____



Différence commune: _____



Différence commune: _____



Différence commune: _____



Différence commune: _____



Différence commune: _____



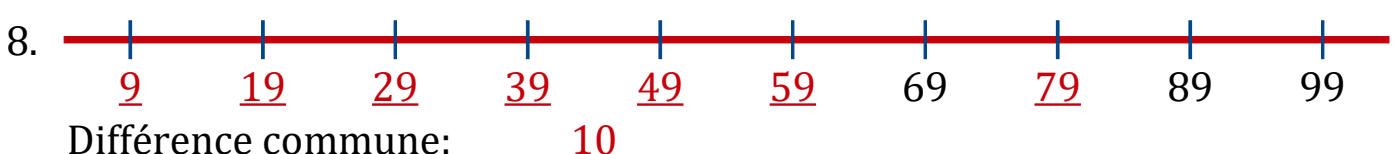
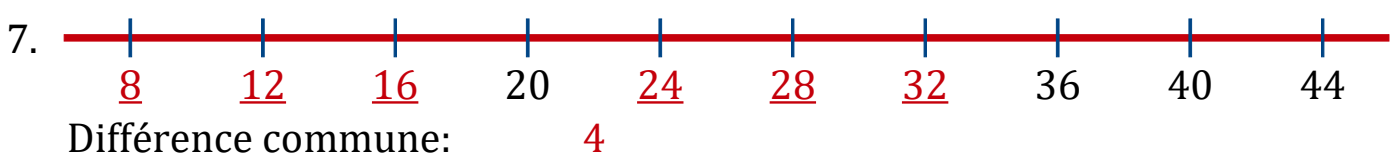
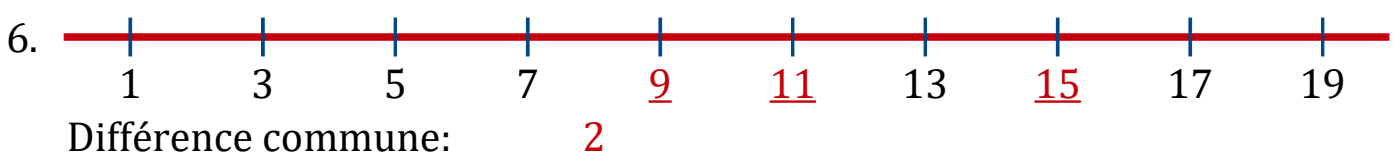
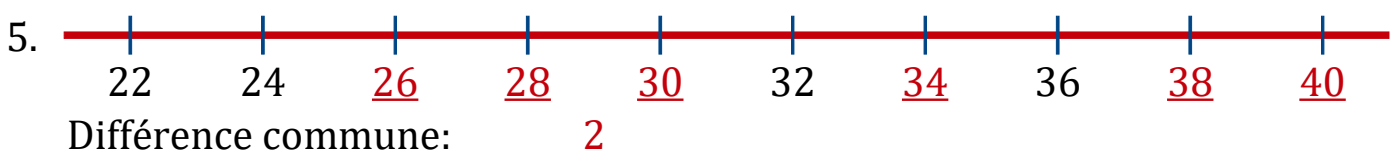
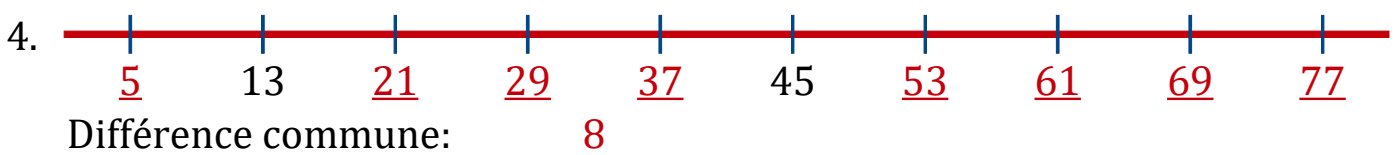
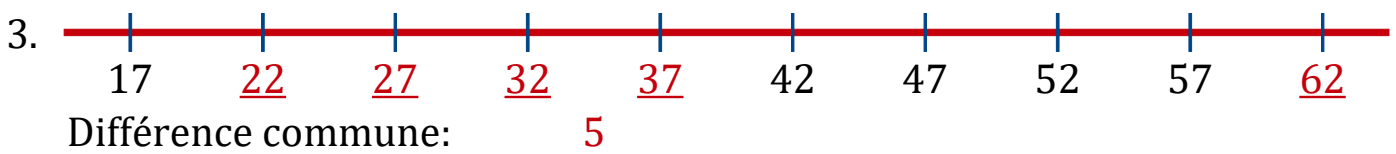
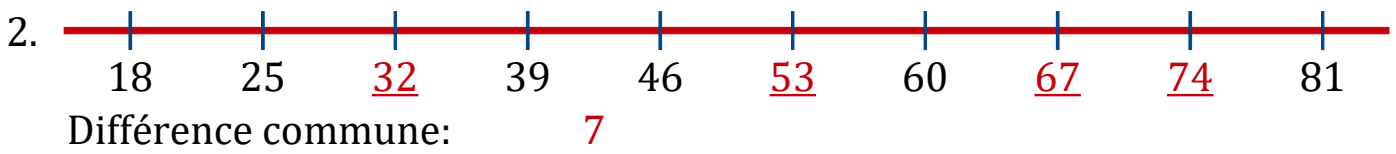
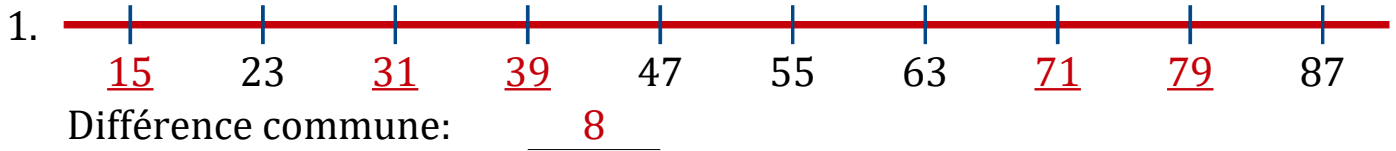
Différence commune: _____



Différence commune: _____

Droites Numériques (E) Réponses

Complétez cette droite numérique par les nombres manquants.



Droites Numériques (F)

Complétez cette droite numérique par les nombres manquants.



Différence commune: _____



Différence commune: _____



Différence commune: _____



Différence commune: _____



Différence commune: _____



Différence commune: _____



Différence commune: _____



Différence commune: _____

Droites Numériques (F) Réponses

Complétez cette droite numérique par les nombres manquants.



Différence commune: 2



Différence commune: 10



Différence commune: 2



Différence commune: 7



Différence commune: 10



Différence commune: 3




Différence commune: 2



Différence commune: 2

Droites Numériques (G)

Complétez cette droite numérique par les nombres manquants.



Différence commune: _____



Différence commune: _____



Différence commune: _____



Différence commune: _____



Différence commune: _____



Différence commune: _____



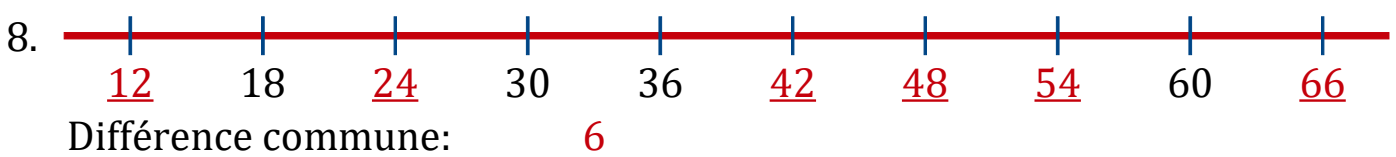
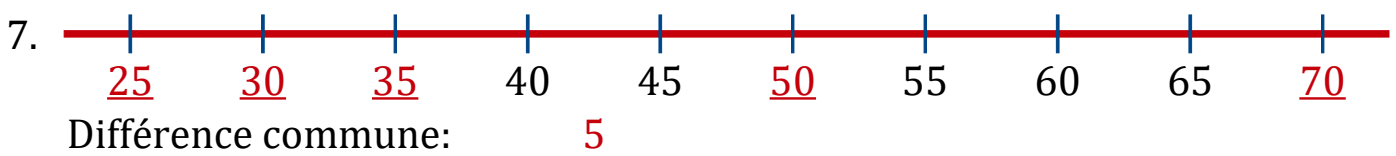
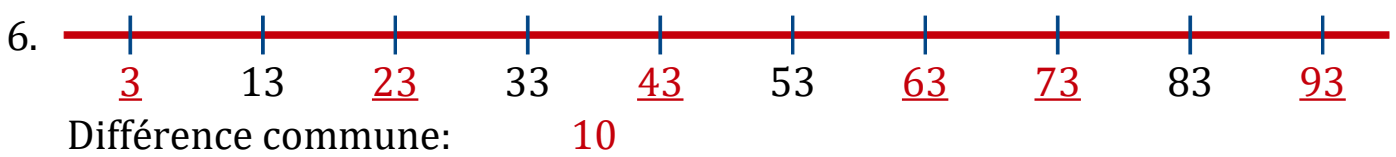
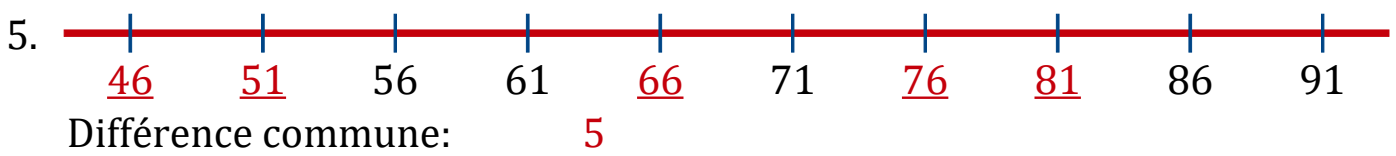
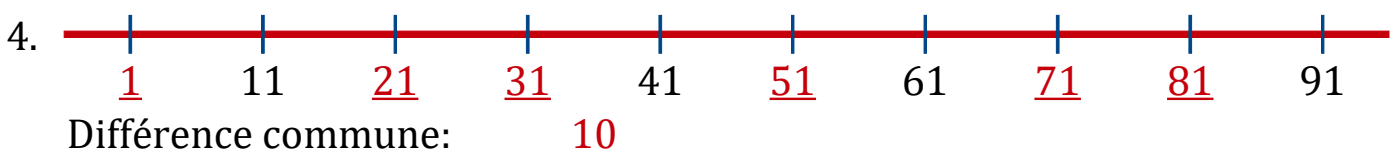
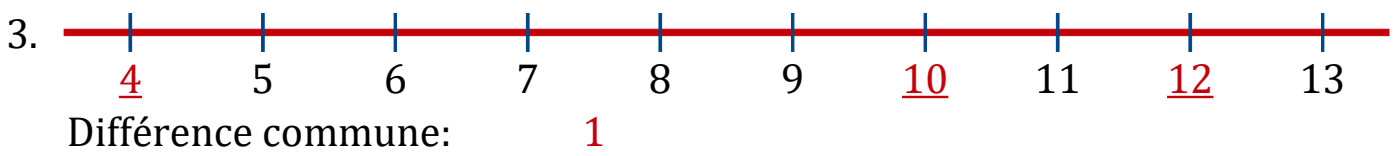
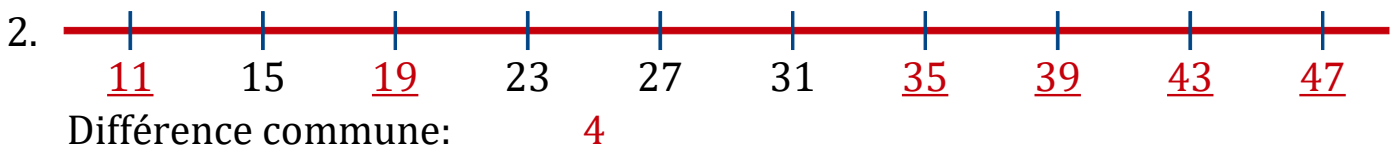
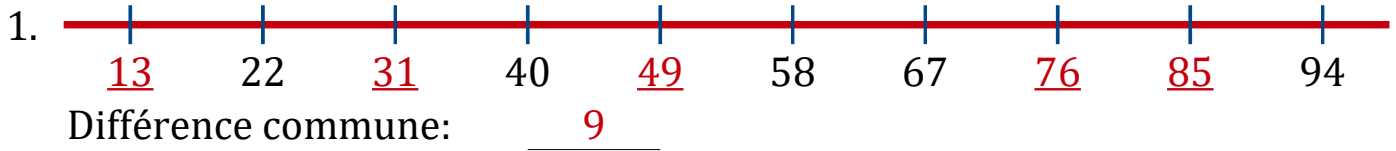
Différence commune: _____



Différence commune: _____

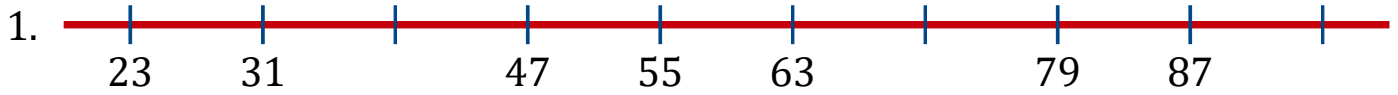
Droites Numériques (G) Réponses

Complétez cette droite numérique par les nombres manquants.



Droites Numériques (H)

Complétez cette droite numérique par les nombres manquants.



Différence commune: _____



Différence commune: _____



Différence commune: _____



Différence commune: _____



Différence commune: _____



Différence commune: _____



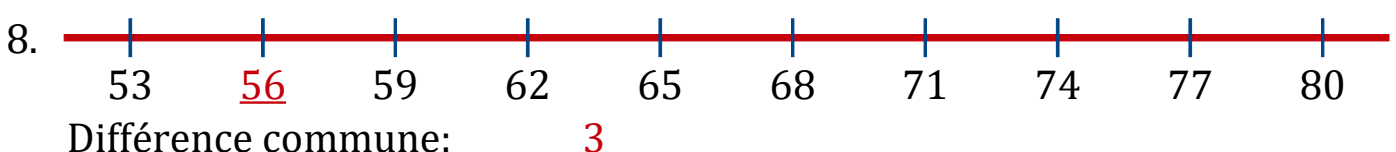
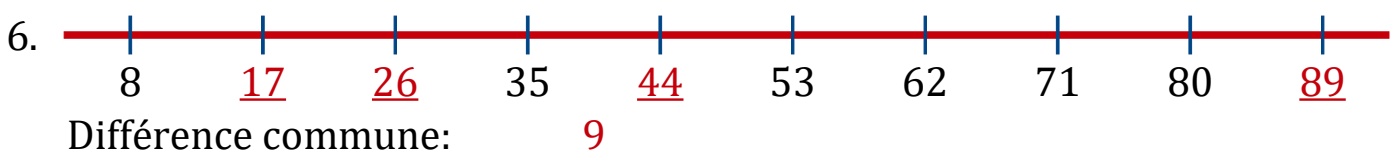
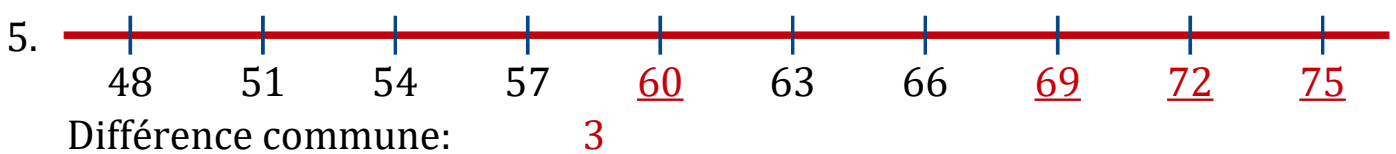
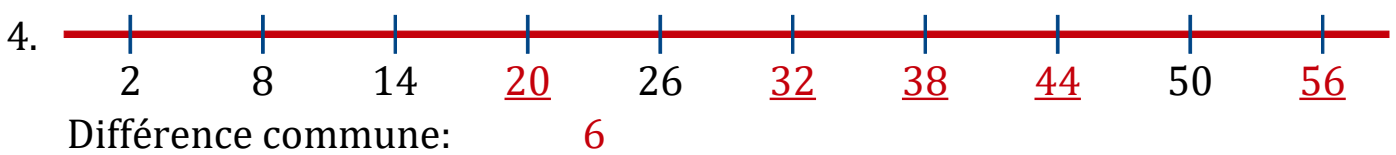
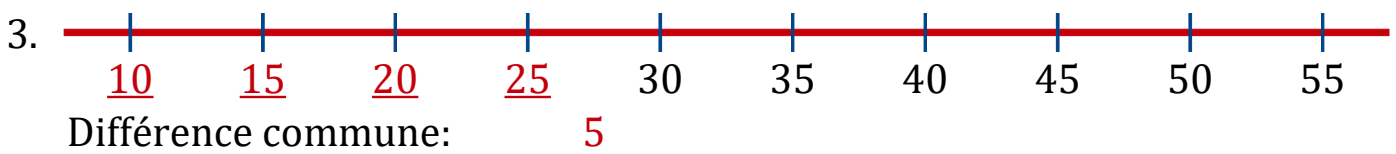
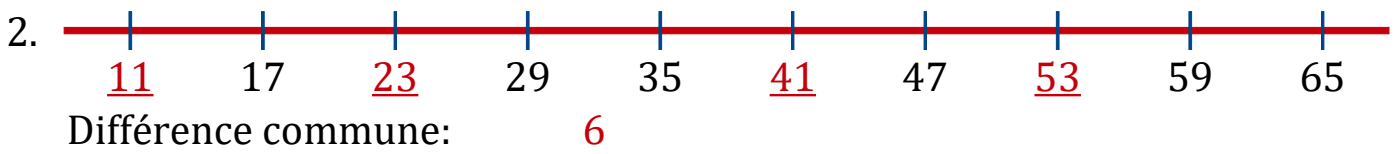
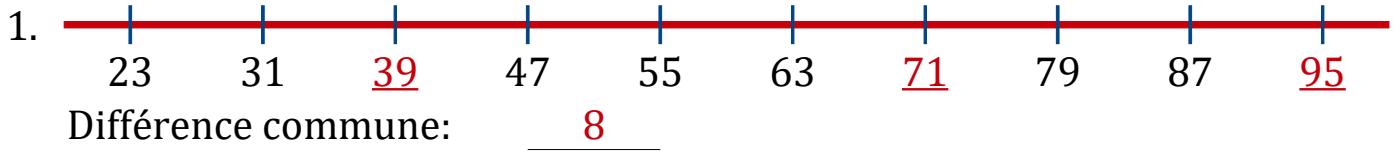
Différence commune: _____



Différence commune: _____


Droites Numériques (H) Réponses

Complétez cette droite numérique par les nombres manquants.



Droites Numériques (I)

Complétez cette droite numérique par les nombres manquants.



Différence commune: _____



Différence commune: _____



Différence commune: _____



Différence commune: _____



Différence commune: _____



Différence commune: _____



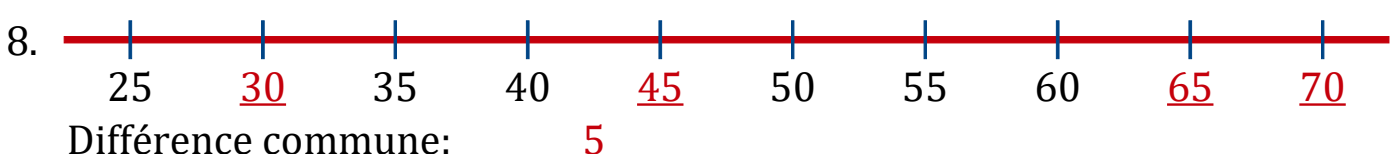
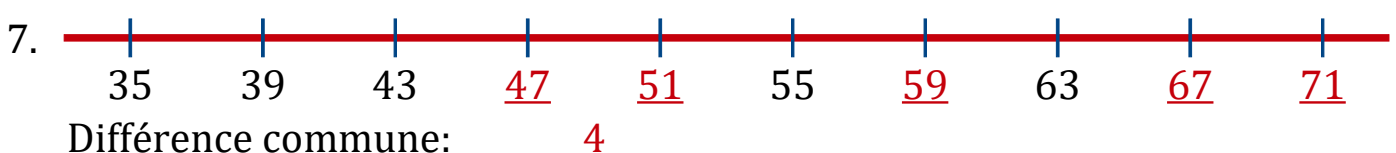
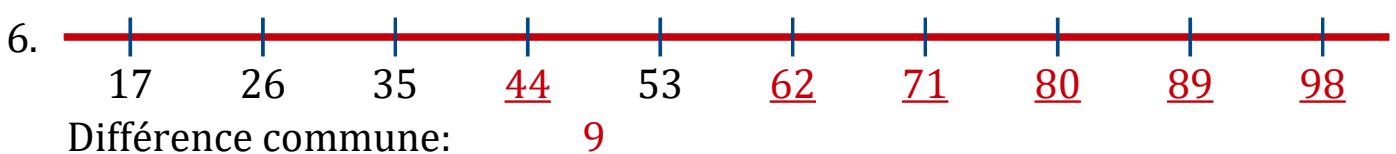
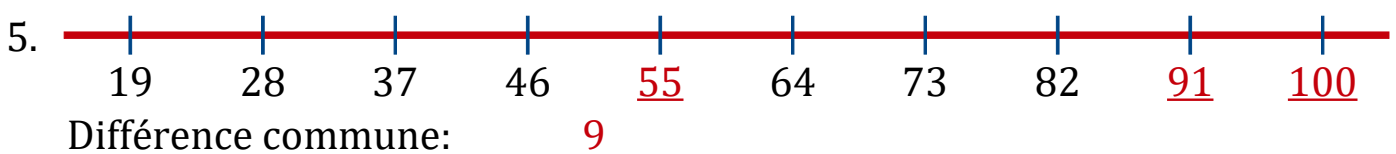
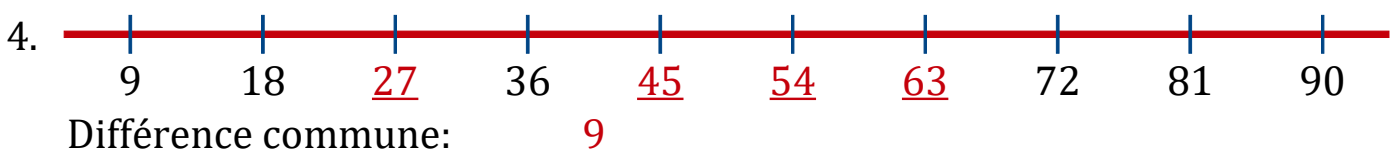
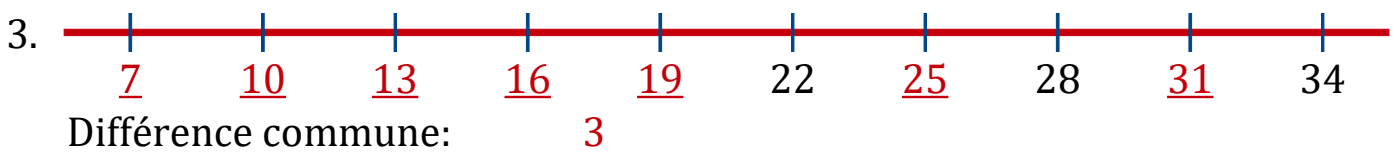
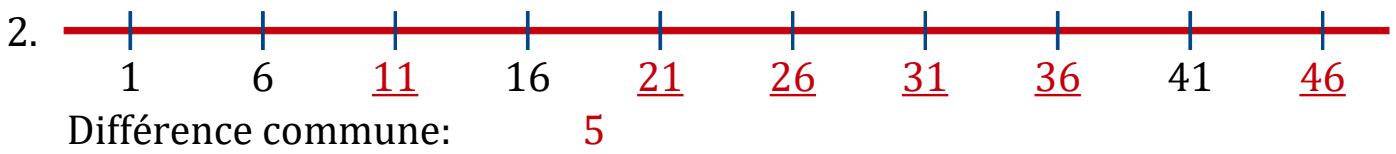
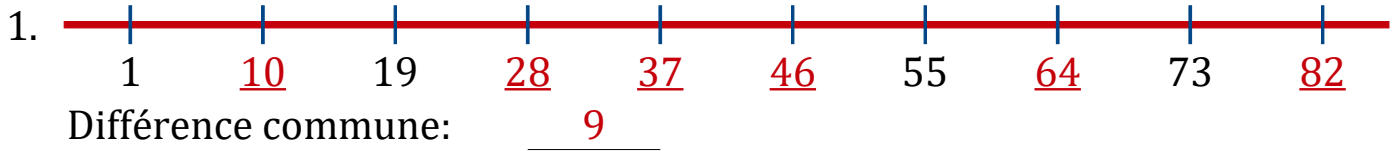
Différence commune: _____



Différence commune: _____


Droites Numériques (I) Réponses

Complétez cette droite numérique par les nombres manquants.



Droites Numériques (J)

Complétez cette droite numérique par les nombres manquants.



Différence commune: _____



Différence commune: _____



Différence commune: _____



Différence commune: _____



Différence commune: _____



Différence commune: _____



Différence commune: _____



Différence commune: _____

Droites Numériques (J) Réponses

Complétez cette droite numérique par les nombres manquants.



Différence commune: 1



Différence commune: 7



Différence commune: 1



Différence commune: 1



Différence commune: 1



Différence commune: 3



Différence commune: 5



Différence commune: 7