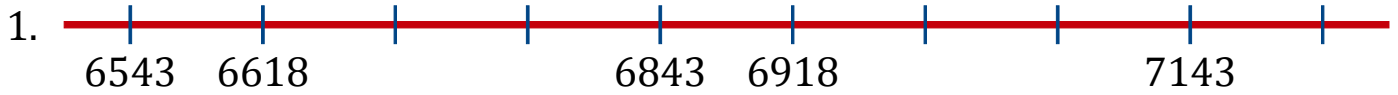


# Séquence de Nombres Linéaires (A)

Remplissez les nombres qui manquent de chaque nombre linéaire.



Différence commune: \_\_\_\_\_



Différence commune: \_\_\_\_\_



Différence commune: \_\_\_\_\_



Différence commune: \_\_\_\_\_



Différence commune: \_\_\_\_\_



Différence commune: \_\_\_\_\_



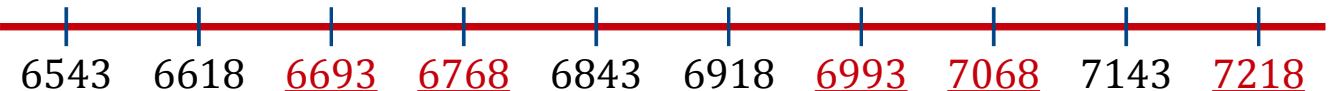
Différence commune: \_\_\_\_\_





Différence commune: \_\_\_\_\_


# Séquence de Nombres Linéaires (A) Réponses


Remplissez les nombres qui manquent de chaque nombre linéaire.


1.   
6543 6618 6693 6768 6843 6918 6993 7068 7143 7218  
Différence commune: 75


2.   
2431 2436 2441 2446 2451 2456 2461 2466 2471 2476  
Différence commune: 5


3.   
3009 3109 3209 3309 3409 3509 3609 3709 3809 3909  
Différence commune: 100

4.   
8354 8404 8454 8504 8554 8604 8654 8704 8754 8804  
Différence commune: 50

5.   
4470 4545 4620 4695 4770 4845 4920 4995 5070 5145  
Différence commune: 75

6.   
1433 1458 1483 1508 1533 1558 1583 1608 1633 1658  
Différence commune: 25

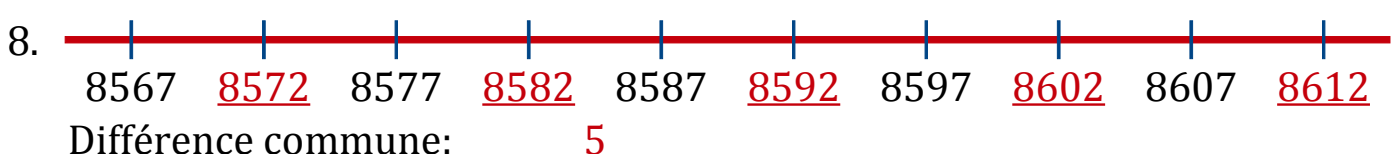
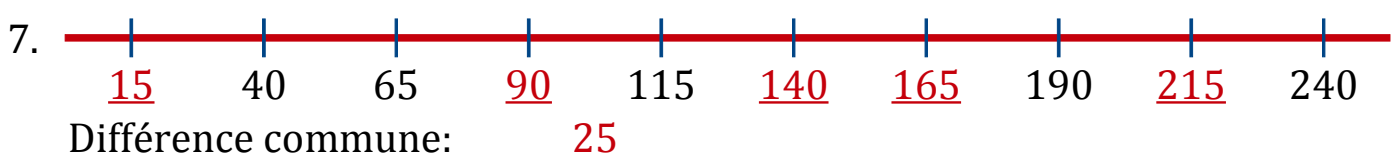
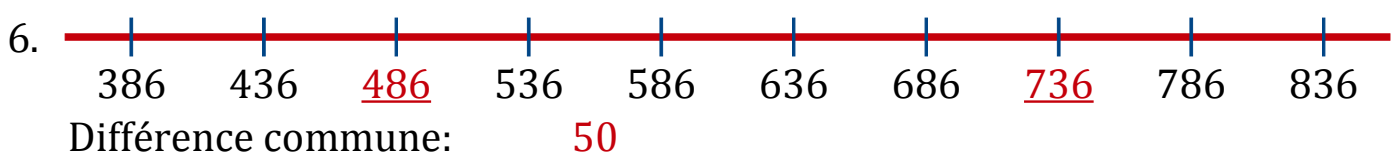
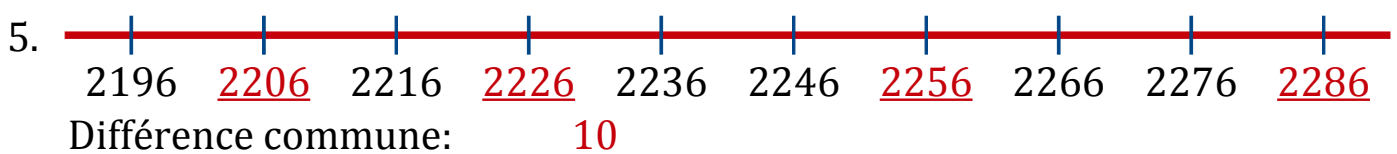
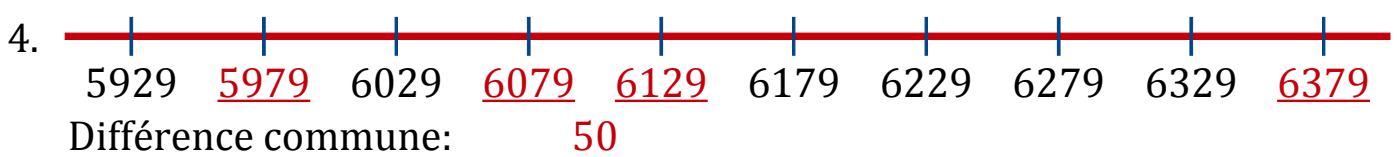
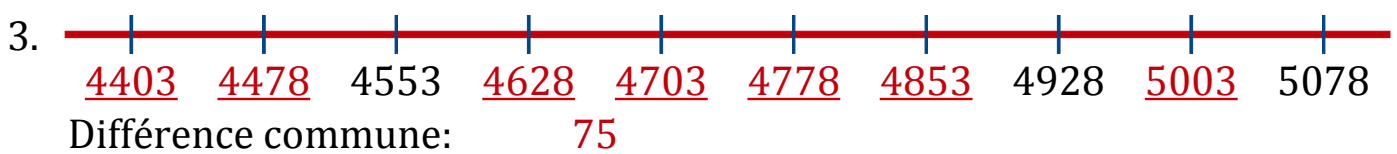
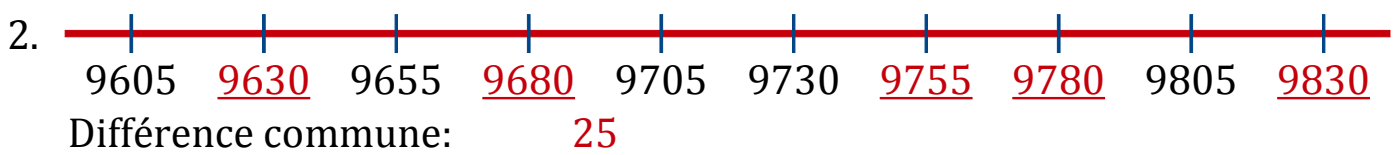
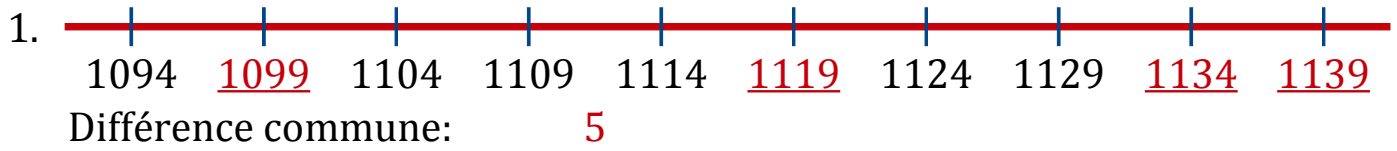
7.   
2683 2733 2783 2833 2883 2933 2983 3033 3083 3133  
Différence commune: 50

8.   
8239 8289 8339 8389 8439 8489 8539 8589 8639 8689  
Différence commune: 50



# Séquence de Nombres Linéaires (B) Réponses

Remplissez les nombres qui manquent de chaque nombre linéaire.



# Séquence de Nombres Linéaires (C)

Remplissez les nombres qui manquent de chaque nombre linéaire.



Différence commune: \_\_\_\_\_



Différence commune: \_\_\_\_\_



Différence commune: \_\_\_\_\_



Différence commune: \_\_\_\_\_



Différence commune: \_\_\_\_\_



Différence commune: \_\_\_\_\_




Différence commune: \_\_\_\_\_





Différence commune: \_\_\_\_\_


# Séquence de Nombres Linéaires (C) Réponses


Remplissez les nombres qui manquent de chaque nombre linéaire.


1.   
2507 2517 2527 2537 2547 2557 2567 2577 2587 2597  
Différence commune: 10


2.   
4944 5019 5094 5169 5244 5319 5394 5469 5544 5619  
Différence commune: 75


3.   
7224 7234 7244 7254 7264 7274 7284 7294 7304 7314  
Différence commune: 10

4.   
2240 2340 2440 2540 2640 2740 2840 2940 3040 3140  
Différence commune: 100

5.   
8027 8102 8177 8252 8327 8402 8477 8552 8627 8702  
Différence commune: 75

6.   
6170 6175 6180 6185 6190 6195 6200 6205 6210 6215  
Différence commune: 5


7.   
5368 5378 5388 5398 5408 5418 5428 5438 5448 5458  
Différence commune: 10


8.   
6158 6233 6308 6383 6458 6533 6608 6683 6758 6833  
Différence commune: 75





# Séquence de Nombres Linéaires (D) Réponses


Remplissez les nombres qui manquent de chaque nombre linéaire.


1.   
Différence commune: 100


2.   
Différence commune: 5


3.   
Différence commune: 75

4.   
Différence commune: 50

5.   
Différence commune: 50

6.   
Différence commune: 100

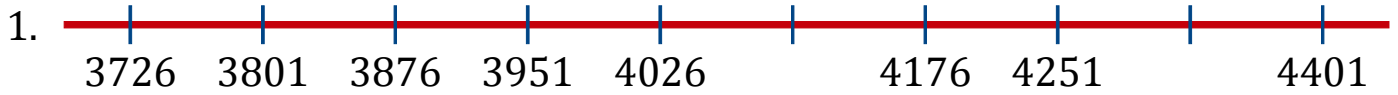
7.   
Différence commune: 5

8.   
Différence commune: 25



# Séquence de Nombres Linéaires (E)

Remplissez les nombres qui manquent de chaque nombre linéaire.



Différence commune: \_\_\_\_\_



Différence commune: \_\_\_\_\_



Différence commune: \_\_\_\_\_



Différence commune: \_\_\_\_\_



Différence commune: \_\_\_\_\_



Différence commune: \_\_\_\_\_




Différence commune: \_\_\_\_\_





Différence commune: \_\_\_\_\_


# Séquence de Nombres Linéaires (E) Réponses


Remplissez les nombres qui manquent de chaque nombre linéaire.


1.   
3726 3801 3876 3951 4026 4101 4176 4251 4326 4401  
Différence commune: 75


2.   
7558 7568 7578 7588 7598 7608 7618 7628 7638 7648  
Différence commune: 10


3.   
7765 7775 7785 7795 7805 7815 7825 7835 7845 7855  
Différence commune: 10

4.   
2936 2946 2956 2966 2976 2986 2996 3006 3016 3026  
Différence commune: 10

5.   
2736 2761 2786 2811 2836 2861 2886 2911 2936 2961  
Différence commune: 25

6.   
8870 8970 9070 9170 9270 9370 9470 9570 9670 9770  
Différence commune: 100

7.   
1352 1427 1502 1577 1652 1727 1802 1877 1952 2027  
Différence commune: 75

8.   
5155 5230 5305 5380 5455 5530 5605 5680 5755 5830  
Différence commune: 75

# Séquence de Nombres Linéaires (F)

Remplissez les nombres qui manquent de chaque nombre linéaire.



Différence commune: \_\_\_\_\_



Différence commune: \_\_\_\_\_



Différence commune: \_\_\_\_\_



Différence commune: \_\_\_\_\_




Différence commune: \_\_\_\_\_



Différence commune: \_\_\_\_\_




Différence commune: \_\_\_\_\_





Différence commune: \_\_\_\_\_


# Séquence de Nombres Linéaires (F) Réponses


Remplissez les nombres qui manquent de chaque nombre linéaire.


1.   
Différence commune: 25


2.   
Différence commune: 10


3.   
Différence commune: 50

4.   
Différence commune: 50

5.   
Différence commune: 75

6.   
Différence commune: 75

7.   
Différence commune: 25

8.   
Différence commune: 10

# Séquence de Nombres Linéaires (G)

Remplissez les nombres qui manquent de chaque nombre linéaire.



Différence commune: \_\_\_\_\_



Différence commune: \_\_\_\_\_



Différence commune: \_\_\_\_\_



Différence commune: \_\_\_\_\_



Différence commune: \_\_\_\_\_



Différence commune: \_\_\_\_\_




Différence commune: \_\_\_\_\_





Différence commune: \_\_\_\_\_


# Séquence de Nombres Linéaires (G) Réponses


Remplissez les nombres qui manquent de chaque nombre linéaire.


1.   
Différence commune: 100


2.   
Différence commune: 10


3.   
Différence commune: 25

4.   
Différence commune: 75

5.   
Différence commune: 25

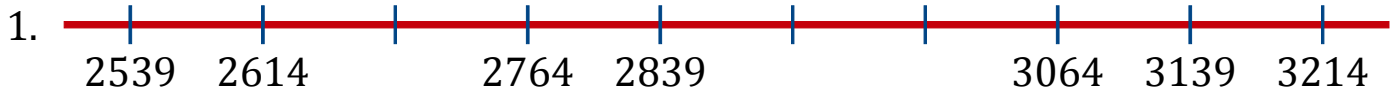
6.   
Différence commune: 100

7.   
Différence commune: 75

8.   
Différence commune: 100

# Séquence de Nombres Linéaires (H)

Remplissez les nombres qui manquent de chaque nombre linéaire.



Différence commune: \_\_\_\_\_



Différence commune: \_\_\_\_\_



Différence commune: \_\_\_\_\_



Différence commune: \_\_\_\_\_




Différence commune: \_\_\_\_\_



Différence commune: \_\_\_\_\_




Différence commune: \_\_\_\_\_

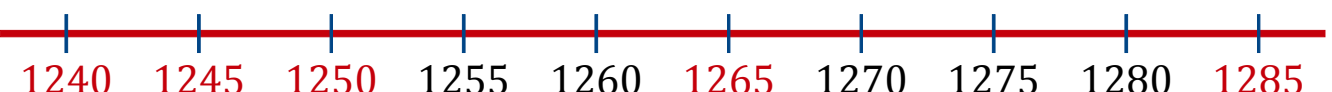



Différence commune: \_\_\_\_\_


# Séquence de Nombres Linéaires (H) Réponses


Remplissez les nombres qui manquent de chaque nombre linéaire.


1.   
2539 2614 2689 2764 2839 2914 2989 3064 3139 3214  
Différence commune: 75


2.   
1240 1245 1250 1255 1260 1265 1270 1275 1280 1285  
Différence commune: 5


3.   
7975 7985 7995 8005 8015 8025 8035 8045 8055 8065  
Différence commune: 10

4.   
730 755 780 805 830 855 880 905 930 955  
Différence commune: 25

5.   
745 845 945 1045 1145 1245 1345 1445 1545 1645  
Différence commune: 100

6.   
3073 3173 3273 3373 3473 3573 3673 3773 3873 3973  
Différence commune: 100

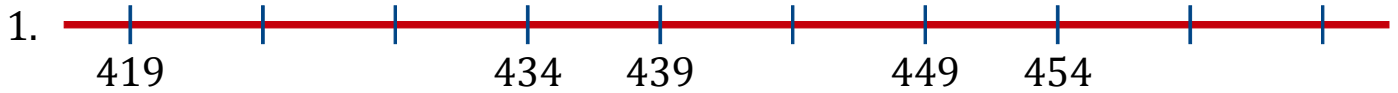
7.   
604 614 624 634 644 654 664 674 684 694  
Différence commune: 10

8.   
1539 1614 1689 1764 1839 1914 1989 2064 2139 2214  
Différence commune: 75



# Séquence de Nombres Linéaires (I)

Remplissez les nombres qui manquent de chaque nombre linéaire.



Différence commune: \_\_\_\_\_



Différence commune: \_\_\_\_\_



Différence commune: \_\_\_\_\_



Différence commune: \_\_\_\_\_



Différence commune: \_\_\_\_\_



Différence commune: \_\_\_\_\_




Différence commune: \_\_\_\_\_





Différence commune: \_\_\_\_\_


# Séquence de Nombres Linéaires (I) Réponses


Remplissez les nombres qui manquent de chaque nombre linéaire.


1.   
Différence commune: 5


2.   
Différence commune: 50

3.   
Différence commune: 10

4.   
Différence commune: 10

5.   
Différence commune: 25

6.   
Différence commune: 25


7.   
Différence commune: 100


8.   
Différence commune: 75





# Séquence de Nombres Linéaires (J) Réponses


Remplissez les nombres qui manquent de chaque nombre linéaire.


1.   
Différence commune: 100


2.   
Différence commune: 25


3.   
Différence commune: 100

4.   
Différence commune: 5

5.   
Différence commune: 75

6.   
Différence commune: 100

7.   
Différence commune: 5

8.   
Différence commune: 10