

Séquence de Nombres Linéaires (H)

Remplissez les nombres qui manquent de chaque nombre linéaire.



Différence commune: _____



Différence commune: _____



Différence commune: _____



Différence commune: _____



Différence commune: _____



Différence commune: _____




Différence commune: _____

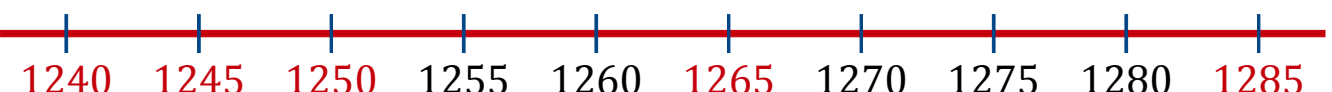



Différence commune: _____


Séquence de Nombres Linéaires (H) Réponses


Remplissez les nombres qui manquent de chaque nombre linéaire.


1. 
2539 2614 2689 2764 2839 2914 2989 3064 3139 3214
Différence commune: 75


2. 
1240 1245 1250 1255 1260 1265 1270 1275 1280 1285
Différence commune: 5


3. 
7975 7985 7995 8005 8015 8025 8035 8045 8055 8065
Différence commune: 10

4. 
730 755 780 805 830 855 880 905 930 955
Différence commune: 25

5. 
745 845 945 1045 1145 1245 1345 1445 1545 1645
Différence commune: 100

6. 
3073 3173 3273 3373 3473 3573 3673 3773 3873 3973
Différence commune: 100

7. 
604 614 624 634 644 654 664 674 684 694
Différence commune: 10

8. 
1539 1614 1689 1764 1839 1914 1989 2064 2139 2214
Différence commune: 75