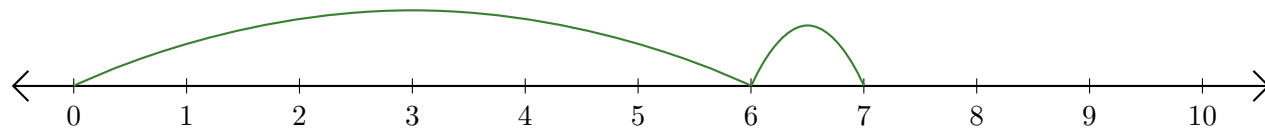


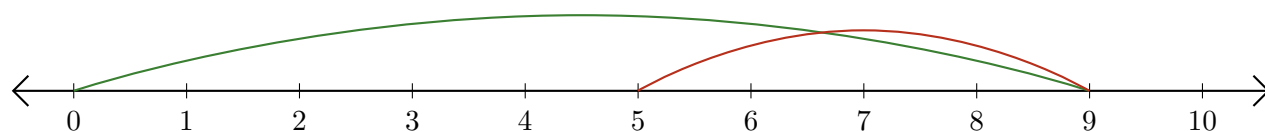
Lecture de Nombres sur une Droite Graduée (A)

Déterminez les termes et le résultat (somme ou différence) représentés sur chaque droite graduée.

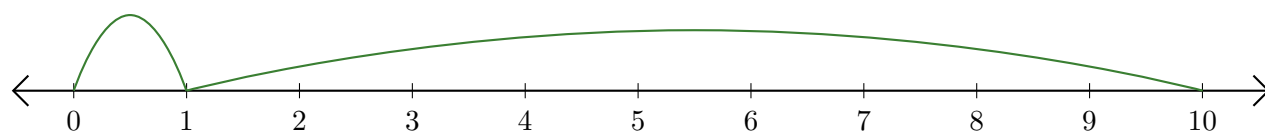
1. $\underline{\quad} + \underline{\quad} = \underline{\quad}$



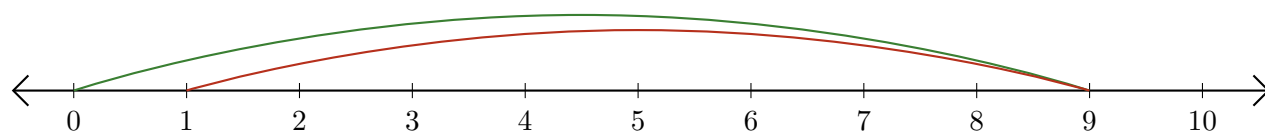
2. $\underline{\quad} - \underline{\quad} = \underline{\quad}$



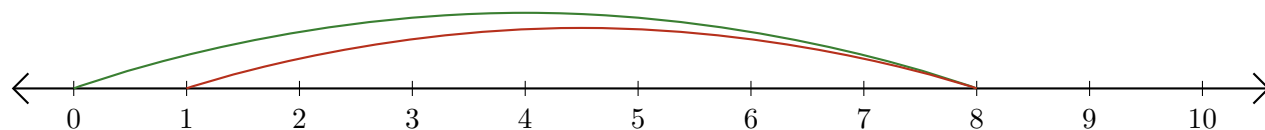
3. $\underline{\quad} + \underline{\quad} = \underline{\quad}$



4. $\underline{\quad} - \underline{\quad} = \underline{\quad}$



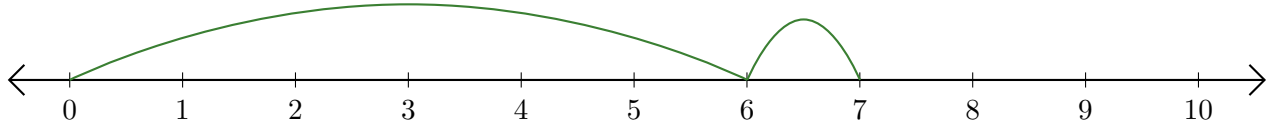
5. $\underline{\quad} - \underline{\quad} = \underline{\quad}$



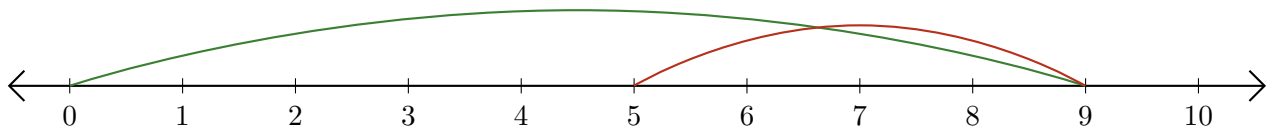
Lecture de Nombres sur une Droite Graduée (A) Réponses

Déterminez les termes et le résultat (somme ou différence) représentés sur chaque droite graduée.

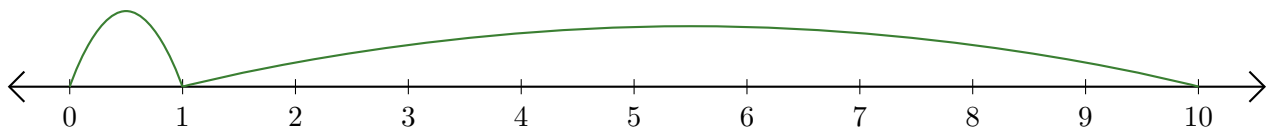
1. $\underline{6} + \underline{1} = \underline{7}$



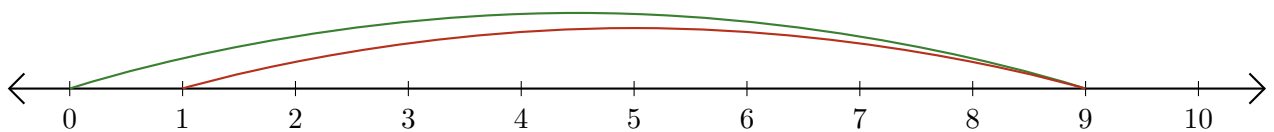
2. $\underline{9} - \underline{4} = \underline{5}$



3. $\underline{1} + \underline{9} = \underline{10}$



4. $\underline{9} - \underline{8} = \underline{1}$



5. $\underline{8} - \underline{7} = \underline{1}$

