

Comptage par Bonds de 7 (A)

Remplissez les champs vides.



7

—



—



—



—



—



—



—



63

—



77

—



—



—



105



112

—




—



133

—



—



154



161



—



—



—



—



—



—



—

Comptage par Bonds de 7 (A) Réponses

Remplissez les champs vides.



7



14



21



28



35



42



49



56




63



70



77



84



91




98



105



112



119



126



133



140



147



154



161



168



175



182



189



196



203



210

Comptage par Bonds de 7 (7)

Remplissez les champs vides.



7

—



—



—



—



—



—



—



—



—



—



—



91



98



—



—



119



—



—



—




—




154



—



—



—



—



—



—



—



210

Comptage par Bonds de 7 (7) Réponses

Remplissez les champs vides.



7



14



21



28



35



42



49



56



63



70



77



84



91



98



105



112



119



126



133



140



147



154



161



168



175



182



189



196



203



210

Comptage par Bonds de 7 (6)

Remplissez les champs vides.



7



14



























105


















161







182









Comptage par Bonds de 7 (7) Réponses

Remplissez les champs vides.



7



14



21



28



35



42



49



56




63



70



77



84



91



98



105



112



119



126



133



140



147



154



161



168



175



182



189



196



203



210

Comptage par Bonds de 7 (7)

Remplissez les champs vides.



7

—



—



—



—



—



49


—



63



70



77

—



—



—



—



—



—



—



—



—



147

—



161



168

—



—



—



—



203

—

Comptage par Bonds de 7 (7) Réponses

Remplissez les champs vides.



7



14



21



28



35



42



49



56



63



70



77



84



91



98



105



112



119



126



133



140



147



154



161



168



175



182



189



196



203



210

Comptage par Bonds de 7 (E)

Remplissez les champs vides.



7

—



—



—



—



—



—



—



—




—



—



—



91

—



—



—



—



126

—



—



—



—



—



168

—



—



189

—



203

—



Comptage par Bonds de 7 (E) Réponses

Remplissez les champs vides.



7



14



21



28



35



42



49



56




63



70



77



84



91



98



105



112



119



126



133



140



147



154



161



168



175



182



189



196



203



210

Comptage par Bonds de 7 (F)

Remplissez les champs vides.



7



14





28









56



63







84





98





112



119









147







168













210

Comptage par Bonds de 7 (F) Réponses

Remplissez les champs vides.



7



14



21



28



35



42



49



56



63



70



77




84



91



98



105



112



119



126



133



140



147



154



161



168



175



182



189



196



203



210

Comptage par Bonds de 7 (G)

Remplissez les champs vides.



7



14



—



—



—



42



—



—



—



70



—



—



—



98



—



112



—



—



—



—



—



—



—



—



—



—



—



—



—



—

Comptage par Bonds de 7 (G) Réponses

Remplissez les champs vides.



7



14



21



28



35



42



49



56




63



70



77



84



91



98



105



112



119



126



133



140



147



154



161



168



175



182



189



196



203



210

Comptage par Bonds de 7 (7)

Remplissez les champs vides.



7



14



—



—



—



—



49



56



63



—



—



84



—



—



—



—



—



—



—



—



147



—



161



—



—



—



189



—



—



210

Comptage par Bonds de 7 (7) Réponses

Remplissez les champs vides.



7



14



21



28



35



42



49



56



63



70



77



84



91



98



105



112



119



126



133



140



147



154



161



168



175



182



189



196



203



210

Comptage par Bonds de 7 (7)

Remplissez les champs vides.



7



































133





154













203

Comptage par Bonds de 7 (7) Réponses

Remplissez les champs vides.



7



14



21



28



35



42



49



56




63



70



77



84



91




98



105



112




119



126



133



140



147



154



161



168



175



182



189



196



203



210

Comptage par Bonds de 7 (9)

Remplissez les champs vides.



7

—



21

—



35



42

—



—



63

—



—



—



—



—



—



112



119



—



—



—



—



—



—



—



175



—



—



196



—



210

Comptage par Bonds de 7 (I) Réponses

Remplissez les champs vides.



7



14



21



28



35



42



49



56



63



70



77




84



91



98



105



112



119



126



133



140



147



154



161



168



175



182



189



196



203



210