


Compter des bonbons en forme de cœurs (A)

Nom: _____

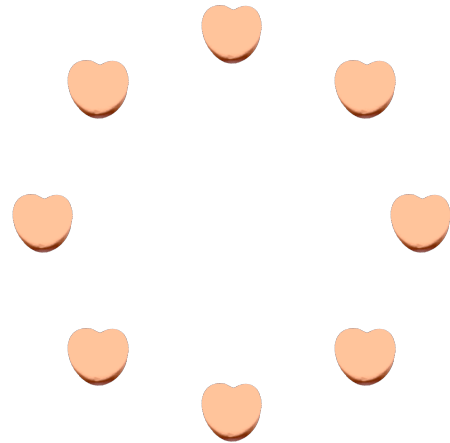
Date: _____

Comptes combien de bonbons en forme de cœurs il y a dans chaque groupe.


1. Il y a _____ cœurs bleus dans le groupe ci-dessous.



2. Il y a _____ cœurs oranges dans le groupe ci-dessous.



3. Il y a _____ cœurs oranges dans le groupe ci-dessous.



4. Il y a _____ cœurs roses dans le groupe ci-dessous.




Compter des bonbons en forme de cœurs (A) Réponses

Nom: _____

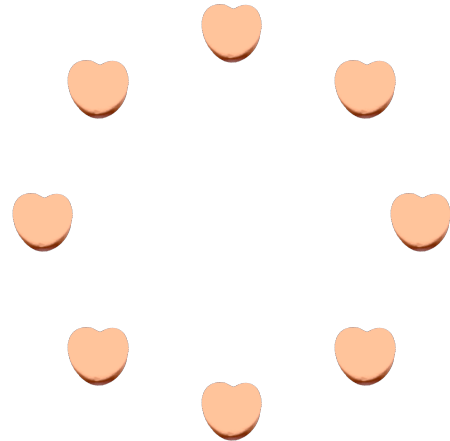
Date: _____

Comptes combien de bonbons en forme de cœurs il y a dans chaque groupe.


1. Il y a 9 cœurs bleus dans le groupe ci-dessous.



2. Il y a 8 cœurs oranges dans le groupe ci-dessous.



3. Il y a 15 cœurs oranges dans le groupe ci-dessous.



4. Il y a 8 cœurs roses dans le groupe ci-dessous.




Compter des bonbons en forme de cœurs (B)

Nom: _____

Date: _____

Comptes combien de bonbons en forme de cœurs il y a dans chaque groupe.


1. Il y a _____ cœurs bleus dans le groupe ci-dessous.



2. Il y a _____ cœurs oranges dans le groupe ci-dessous.



3. Il y a _____ cœurs roses dans le groupe ci-dessous.



4. Il y a _____ cœurs oranges dans le groupe ci-dessous.




Compter des bonbons en forme de cœurs (B) Réponses

Nom: _____

Date: _____

Comptes combien de bonbons en forme de cœurs il y a dans chaque groupe.


1. Il y a 20 cœurs bleus dans le groupe ci-dessous.



2. Il y a 9 cœurs oranges dans le groupe ci-dessous.



3. Il y a 12 cœurs roses dans le groupe ci-dessous.



4. Il y a 7 cœurs oranges dans le groupe ci-dessous.



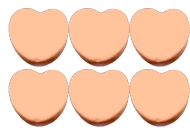
Compter des bonbons en forme de cœurs (C)

Nom: _____


Date: _____

Comptes combien de bonbons en forme de cœurs il y a dans chaque groupe.

1. Il y a _____ cœurs oranges dans le groupe ci-dessous.




2. Il y a _____ cœurs oranges dans le groupe ci-dessous.



3. Il y a _____ cœurs roses dans le groupe ci-dessous.



4. Il y a _____ cœurs bleus dans le groupe ci-dessous.



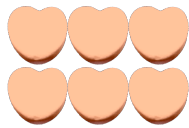
Compter des bonbons en forme de cœurs (C) Réponses

Nom: _____


Date: _____

Comptes combien de bonbons en forme de cœurs il y a dans chaque groupe.

1. Il y a 6 cœurs oranges dans le groupe ci-dessous.




2. Il y a 5 cœurs oranges dans le groupe ci-dessous.



3. Il y a 6 cœurs roses dans le groupe ci-dessous.



4. Il y a 7 cœurs bleus dans le groupe ci-dessous.




Compter des bonbons en forme de cœurs (1)

Nom: _____


Date: _____

Comptes combien de bonbons en forme de cœurs il y a dans chaque groupe.


1. Il y a _____ cœurs bleus dans le groupe ci-dessous.



2. Il y a _____ cœurs roses dans le groupe ci-dessous.



3. Il y a _____ cœurs oranges dans le groupe ci-dessous.



4. Il y a _____ cœurs oranges dans le groupe ci-dessous.




Compter des bonbons en forme de cœurs (D) Réponses

Nom: _____


Date: _____

Comptes combien de bonbons en forme de cœurs il y a dans chaque groupe.


1. Il y a 6 cœurs bleus dans le groupe ci-dessous.



2. Il y a 15 cœurs roses dans le groupe ci-dessous.



3. Il y a 7 cœurs oranges dans le groupe ci-dessous.



4. Il y a 4 cœurs oranges dans le groupe ci-dessous.




Compter des bonbons en forme de cœurs (E)

Nom: _____


Date: _____

Comptes combien de bonbons en forme de cœurs il y a dans chaque groupe.


1. Il y a _____ cœurs roses dans le groupe ci-dessous.



2. Il y a _____ cœurs oranges dans le groupe ci-dessous.



3. Il y a _____ cœurs oranges dans le groupe ci-dessous.



4. Il y a _____ cœurs bleus dans le groupe ci-dessous.




Compter des bonbons en forme de cœurs (E) Réponses

Nom: _____


Date: _____

Comptes combien de bonbons en forme de cœurs il y a dans chaque groupe.


1. Il y a 12 cœurs roses dans le groupe ci-dessous.



2. Il y a 12 cœurs oranges dans le groupe ci-dessous.



3. Il y a 3 cœurs oranges dans le groupe ci-dessous.



4. Il y a 10 cœurs bleus dans le groupe ci-dessous.



Compter des bonbons en forme de cœurs (F)

Nom: _____

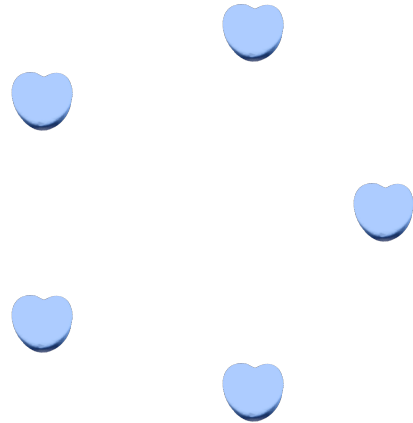
Date: _____

Comptes combien de bonbons en forme de cœurs il y a dans chaque groupe.

1. Il y a _____ cœurs oranges dans le groupe ci-dessous.



2. Il y a _____ cœurs bleus dans le groupe ci-dessous.



3. Il y a _____ cœurs roses dans le groupe ci-dessous.



4. Il y a _____ cœurs oranges dans le groupe ci-dessous.



Compter des bonbons en forme de cœurs (F) Réponses

Nom: _____

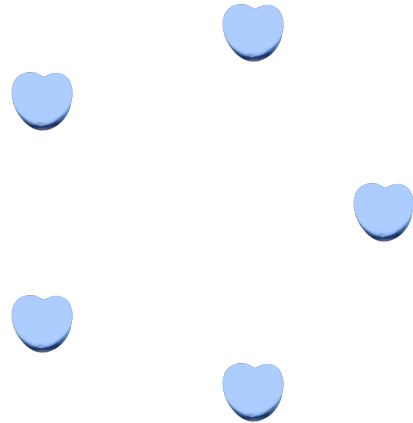
Date: _____

Comptes combien de bonbons en forme de cœurs il y a dans chaque groupe.

1. Il y a 5 cœurs oranges dans le groupe ci-dessous.



2. Il y a 5 cœurs bleus dans le groupe ci-dessous.



3. Il y a 3 cœurs roses dans le groupe ci-dessous.



4. Il y a 6 cœurs oranges dans le groupe ci-dessous.



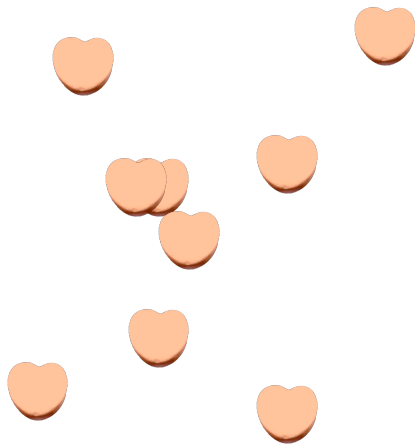
Compter des bonbons en forme de cœurs (G)

Nom: _____


Date: _____

Comptes combien de bonbons en forme de cœurs il y a dans chaque groupe.

1. Il y a _____ cœurs oranges dans le groupe ci-dessous.



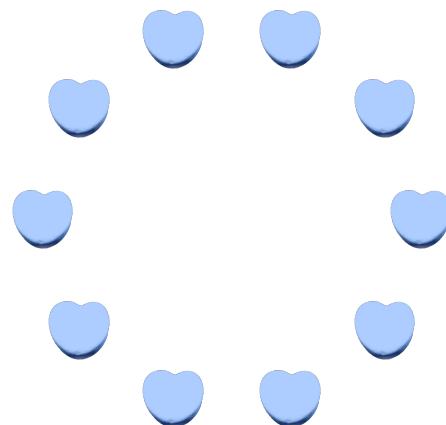
2. Il y a _____ cœurs oranges dans le groupe ci-dessous.



3. Il y a _____ cœurs roses dans le groupe ci-dessous.



4. Il y a _____ cœurs bleus dans le groupe ci-dessous.



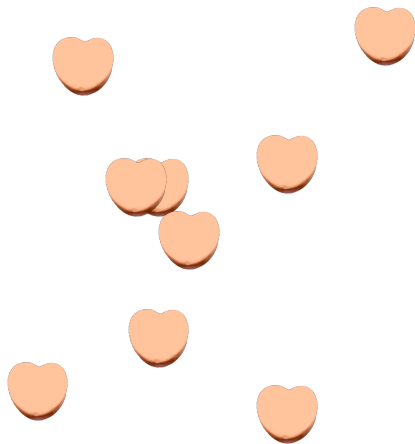
Compter des bonbons en forme de cœurs (G) Réponses

Nom: _____


Date: _____

Comptes combien de bonbons en forme de cœurs il y a dans chaque groupe.

1. Il y a 9 cœurs oranges dans le groupe ci-dessous.



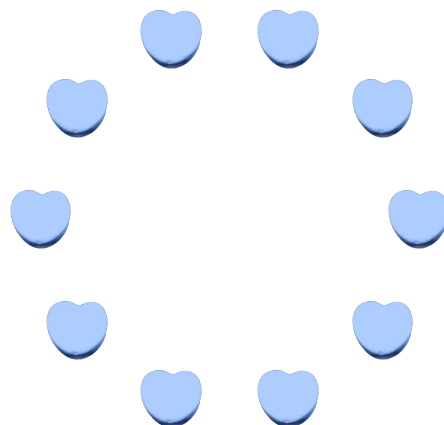
2. Il y a 16 cœurs oranges dans le groupe ci-dessous.



3. Il y a 9 cœurs roses dans le groupe ci-dessous.



4. Il y a 10 cœurs bleus dans le groupe ci-dessous.



Compter des bonbons en forme de cœurs (7)

Nom: _____


Date: _____

Comptes combien de bonbons en forme de cœurs il y a dans chaque groupe.

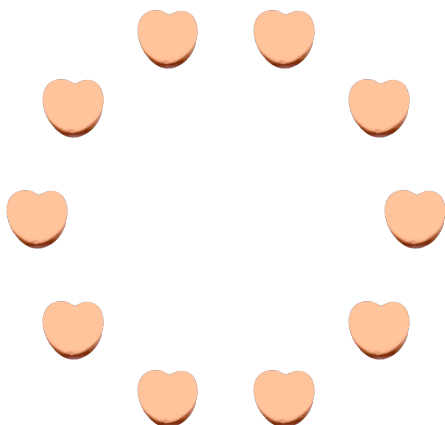
1. Il y a _____ cœurs oranges dans le groupe ci-dessous.



2. Il y a _____ cœurs bleus dans le groupe ci-dessous.



3. Il y a _____ cœurs roses dans le groupe ci-dessous.



4. Il y a _____ cœurs verts dans le groupe ci-dessous.



Compter des bonbons en forme de cœurs (7) Réponses

Nom: _____


Date: _____

Comptes combien de bonbons en forme de cœurs il y a dans chaque groupe.

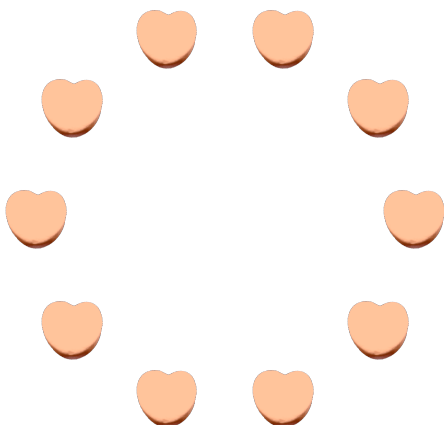
1. Il y a 5 cœurs oranges dans le groupe ci-dessous.



2. Il y a 20 cœurs bleus dans le groupe ci-dessous.



3. Il y a 10 cœurs oranges dans le groupe ci-dessous.



4. Il y a 3 cœurs roses dans le groupe ci-dessous.




Compter des bonbons en forme de cœurs (9)

Nom: _____

Date: _____

Comptes combien de bonbons en forme de cœurs il y a dans chaque groupe.


1. Il y a _____ cœurs bleus dans le groupe ci-dessous.




2. Il y a _____ cœurs oranges dans le groupe ci-dessous.



3. Il y a _____ cœurs oranges dans le groupe ci-dessous.



4. Il y a _____ cœurs roses dans le groupe ci-dessous.




Compter des bonbons en forme de cœurs (9) Réponses

Nom: _____

Date: _____

Comptes combien de bonbons en forme de cœurs il y a dans chaque groupe.


1. Il y a 15 cœurs bleus dans le groupe ci-dessous.




2. Il y a 7 cœurs oranges dans le groupe ci-dessous.



3. Il y a 6 cœurs oranges dans le groupe ci-dessous.



4. Il y a 6 cœurs roses dans le groupe ci-dessous.




Compter des bonbons en forme de cœurs (9)

Nom: _____


Date: _____

Comptes combien de bonbons en forme de cœurs il y a dans chaque groupe.


1. Il y a _____ cœurs roses dans le groupe ci-dessous.



2. Il y a _____ cœurs oranges dans le groupe ci-dessous.



3. Il y a _____ cœurs bleus dans le groupe ci-dessous.



4. Il y a _____ cœurs oranges dans le groupe ci-dessous.




Compter des bonbons en forme de cœurs (9) Réponses

Nom: _____


Date: _____

Comptes combien de bonbons en forme de cœurs il y a dans chaque groupe.


1. Il y a 5 cœurs roses dans le groupe ci-dessous.



2. Il y a 11 cœurs oranges dans le groupe ci-dessous.



3. Il y a 15 cœurs bleus dans le groupe ci-dessous.



4. Il y a 7 cœurs oranges dans le groupe ci-dessous.

