


Compter des bonbons en forme de cœurs (A)

Nom: _____

Date: _____

Comptes combien de bonbons en forme de cœurs il y a dans chaque groupe.


1. Il y a _____ cœurs bleus dans le groupe ci-dessous.



2. Il y a _____ cœurs oranges dans le groupe ci-dessous.



3. Il y a _____ cœurs oranges dans le groupe ci-dessous.



4. Il y a _____ cœurs roses dans le groupe ci-dessous.




Compter des bonbons en forme de cœurs (A) Réponses

Nom: _____

Date: _____

Comptes combien de bonbons en forme de cœurs il y a dans chaque groupe.


1. Il y a 9 cœurs bleus dans le groupe ci-dessous.



2. Il y a 41 cœurs oranges dans le groupe ci-dessous.



3. Il y a 42 cœurs oranges dans le groupe ci-dessous.



4. Il y a 4 cœurs roses dans le groupe ci-dessous.




Compter des bonbons en forme de cœurs (B)

Nom: _____

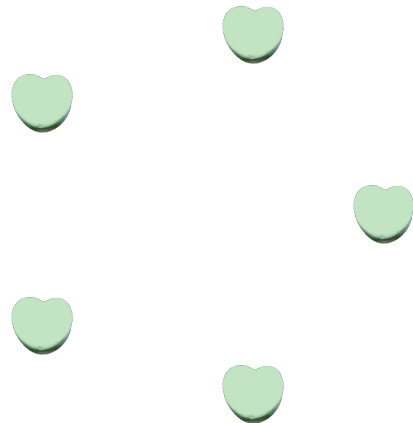
Date: _____

Comptes combien de bonbons en forme de cœurs il y a dans chaque groupe.

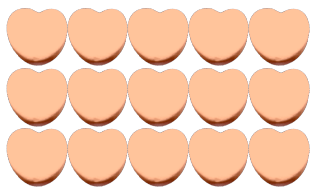
1. Il y a _____ cœurs bleus dans le groupe ci-dessous.



2. Il y a _____ cœurs oranges dans le groupe ci-dessous.



3. Il y a _____ cœurs oranges dans le groupe ci-dessous.



4. Il y a _____ cœurs roses dans le groupe ci-dessous.




Compter des bonbons en forme de cœurs (B) Réponses

Nom: _____

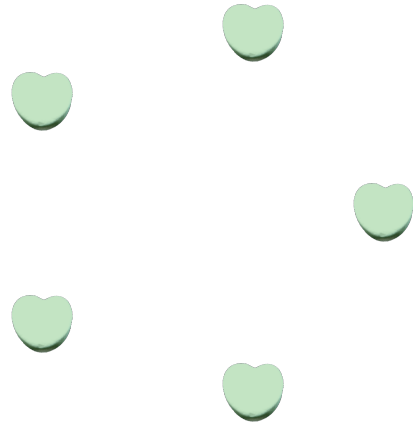
Date: _____

Comptes combien de bonbons en forme de cœurs il y a dans chaque groupe.

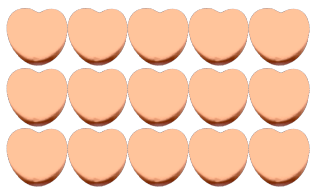
1. Il y a 6 cœurs bleus dans le groupe ci-dessous.



2. Il y a 5 cœurs oranges dans le groupe ci-dessous.



3. Il y a 15 cœurs oranges dans le groupe ci-dessous.



4. Il y a 41 cœurs roses dans le groupe ci-dessous.



Compter des bonbons en forme de cœurs (C)

Nom: _____

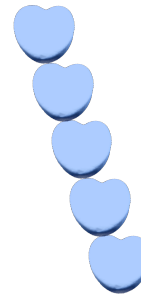
Date: _____

Comptes combien de bonbons en forme de cœurs il y a dans chaque groupe.


1. Il y a _____ cœurs roses dans le groupe ci-dessous.




2. Il y a _____ cœurs bleus dans le groupe ci-dessous.



3. Il y a _____ cœurs oranges dans le groupe ci-dessous.



4. Il y a _____ cœurs oranges dans le groupe ci-dessous.



Compter des bonbons en forme de cœurs (C) Réponses

Nom: _____

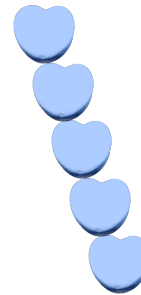
Date: _____

Comptes combien de bonbons en forme de cœurs il y a dans chaque groupe.


1. Il y a 42 cœurs roses dans le groupe ci-dessous.




2. Il y a 5 cœurs bleus dans le groupe ci-dessous.



3. Il y a 9 cœurs oranges dans le groupe ci-dessous.



4. Il y a 54 cœurs oranges dans le groupe ci-dessous.




Compter des bonbons en forme de cœurs (1)

Nom: _____


Date: _____

Comptes combien de bonbons en forme de cœurs il y a dans chaque groupe.

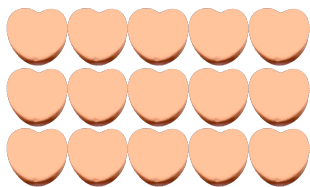
1. Il y a _____ cœurs oranges dans le groupe ci-dessous.




2. Il y a _____ cœurs roses dans le groupe ci-dessous.



3. Il y a _____ cœurs oranges dans le groupe ci-dessous.



4. Il y a _____ cœurs bleus dans le groupe ci-dessous.




Compter des bonbons en forme de cœurs (D) Réponses

Nom: _____


Date: _____

Comptes combien de bonbons en forme de cœurs il y a dans chaque groupe.

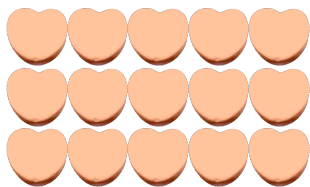
1. Il y a 23 cœurs oranges dans le groupe ci-dessous.




2. Il y a 4 cœurs roses dans le groupe ci-dessous.



3. Il y a 15 cœurs oranges dans le groupe ci-dessous.



4. Il y a 14 cœurs bleus dans le groupe ci-dessous.



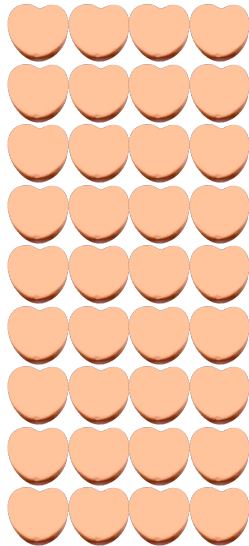
Compter des bonbons en forme de cœurs (E)

Nom: _____

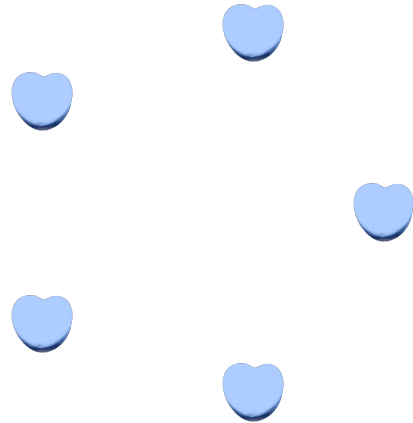
Date: _____

Comptes combien de bonbons en forme de cœurs il y a dans chaque groupe.

1. Il y a _____ cœurs oranges dans le groupe ci-dessous.




2. Il y a _____ cœurs bleus dans le groupe ci-dessous.



3. Il y a _____ cœurs roses dans le groupe ci-dessous.



4. Il y a _____ cœurs oranges dans le groupe ci-dessous.



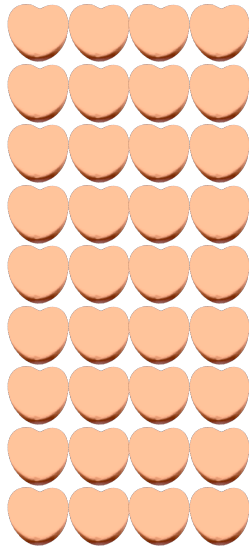
Compter des bonbons en forme de cœurs (E) Réponses

Nom: _____

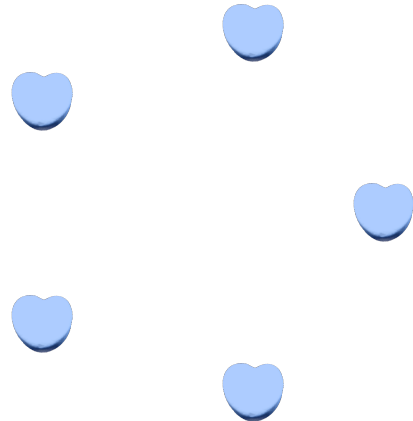
Date: _____

Comptes combien de bonbons en forme de cœurs il y a dans chaque groupe.

1. Il y a 36 cœurs oranges dans le groupe ci-dessous.



2. Il y a 5 cœurs bleus dans le groupe ci-dessous.



3. Il y a 35 cœurs roses dans le groupe ci-dessous.



4. Il y a 6 cœurs oranges dans le groupe ci-dessous.




Compter des bonbons en forme de cœurs (F)

Nom: _____

Date: _____

Comptes combien de bonbons en forme de cœurs il y a dans chaque groupe.


1. Il y a _____ cœurs roses dans le groupe ci-dessous.




2. Il y a _____ cœurs oranges dans le groupe ci-dessous.



3. Il y a _____ cœurs oranges dans le groupe ci-dessous.



4. Il y a _____ cœurs bleus dans le groupe ci-dessous.




Compter des bonbons en forme de cœurs (F) Réponses

Nom: _____

Date: _____

Comptes combien de bonbons en forme de cœurs il y a dans chaque groupe.


1. Il y a 4 cœurs roses dans le groupe ci-dessous.




2. Il y a 23 cœurs oranges dans le groupe ci-dessous.



3. Il y a 9 cœurs oranges dans le groupe ci-dessous.



4. Il y a 12 cœurs bleus dans le groupe ci-dessous.




Compter des bonbons en forme de cœurs (G)

Nom: _____


Date: _____

Comptes combien de bonbons en forme de cœurs il y a dans chaque groupe.


1. Il y a _____ cœurs roses dans le groupe ci-dessous.




2. Il y a _____ cœurs bleus dans le groupe ci-dessous.



3. Il y a _____ cœurs oranges dans le groupe ci-dessous.



4. Il y a _____ cœurs oranges dans le groupe ci-dessous.




Compter des bonbons en forme de cœurs (G) Réponses

Nom: _____


Date: _____

Comptes combien de bonbons en forme de cœurs il y a dans chaque groupe.


1. Il y a 25 cœurs roses dans le groupe ci-dessous.




2. Il y a 7 cœurs bleus dans le groupe ci-dessous.



3. Il y a 24 cœurs oranges dans le groupe ci-dessous.



4. Il y a 11 cœurs oranges dans le groupe ci-dessous.




Compter des bonbons en forme de cœurs (7)

Nom: _____

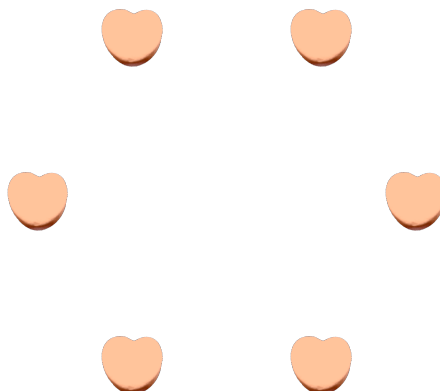
Date: _____

Comptes combien de bonbons en forme de cœurs il y a dans chaque groupe.


1. Il y a _____ cœurs oranges dans le groupe ci-dessous.



2. Il y a _____ cœurs oranges dans le groupe ci-dessous.



3. Il y a _____ cœurs bleus dans le groupe ci-dessous.



4. Il y a _____ cœurs roses dans le groupe ci-dessous.




Compter des bonbons en forme de cœurs (7) Réponses

Nom: _____

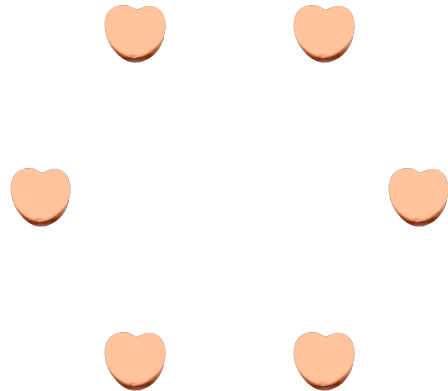
Date: _____

Comptes combien de bonbons en forme de cœurs il y a dans chaque groupe.


1. Il y a 72 cœurs oranges dans le groupe ci-dessous.



2. Il y a 6 cœurs oranges dans le groupe ci-dessous.



3. Il y a 4 cœurs bleus dans le groupe ci-dessous.



4. Il y a 29 cœurs roses dans le groupe ci-dessous.



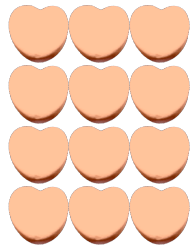
Compter des bonbons en forme de cœurs (9)

Nom: _____


Date: _____

Comptes combien de bonbons en forme de cœurs il y a dans chaque groupe.


1. Il y a _____ cœurs oranges dans le groupe ci-dessous.



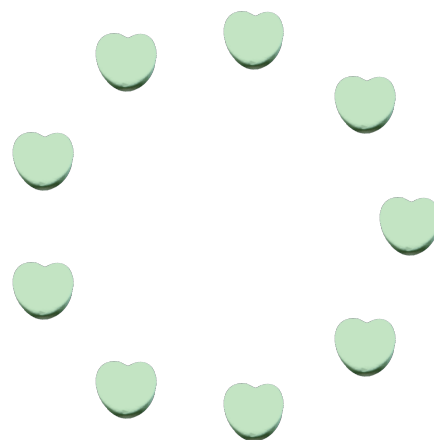
2. Il y a _____ cœurs roses dans le groupe ci-dessous.



3. Il y a _____ cœurs bleus dans le groupe ci-dessous.



4. Il y a _____ cœurs oranges dans le groupe ci-dessous.



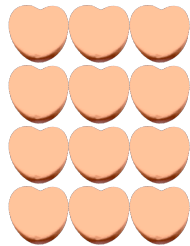
Compter des bonbons en forme de cœurs (9) Réponses

Nom: _____


Date: _____

Comptes combien de bonbons en forme de cœurs il y a dans chaque groupe.


1. Il y a 12 cœurs oranges dans le groupe ci-dessous.



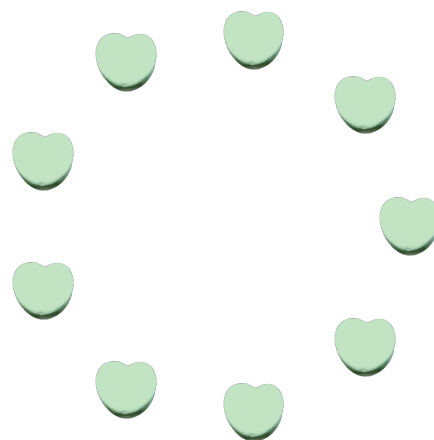
2. Il y a 5 cœurs roses dans le groupe ci-dessous.



3. Il y a 45 cœurs bleus dans le groupe ci-dessous.



4. Il y a 9 cœurs oranges dans le groupe ci-dessous.



Compter des bonbons en forme de cœurs (9)

Nom: _____

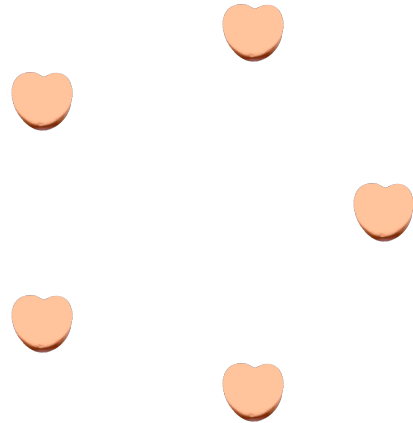
Date: _____

Comptes combien de bonbons en forme de cœurs il y a dans chaque groupe.


1. Il y a _____ cœurs roses dans le groupe ci-dessous.




2. Il y a _____ cœurs oranges dans le groupe ci-dessous.



3. Il y a _____ cœurs oranges dans le groupe ci-dessous.



4. Il y a _____ cœurs bleus dans le groupe ci-dessous.



Compter des bonbons en forme de cœurs (9) Réponses

Nom: _____

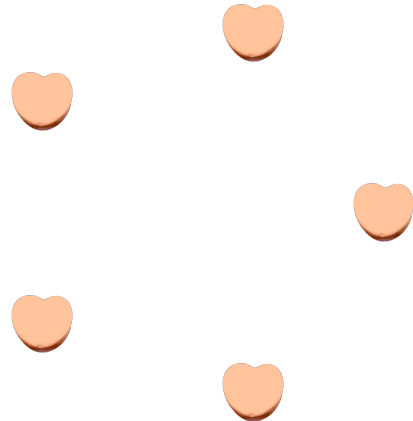
Date: _____

Comptes combien de bonbons en forme de cœurs il y a dans chaque groupe.


1. Il y a 3 cœurs roses dans le groupe ci-dessous.



2. Il y a 5 cœurs oranges dans le groupe ci-dessous.



3. Il y a 46 cœurs oranges dans le groupe ci-dessous.



4. Il y a 12 cœurs bleus dans le groupe ci-dessous.

