

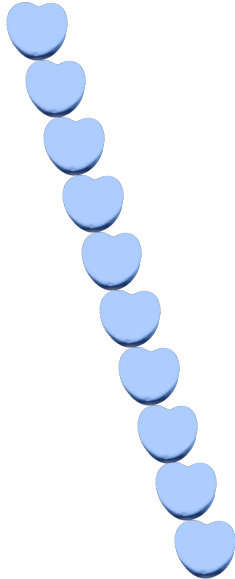
# Compter des bonbons en forme de cœurs (A)

Nom: \_\_\_\_\_


Date: \_\_\_\_\_

Comptes combien de bonbons en forme de cœurs il y a dans chaque groupe.


1. Il y a \_\_\_\_\_ cœurs bleus dans le groupe ci-dessous.



2. Il y a \_\_\_\_\_ cœurs oranges dans le groupe ci-dessous.



3. Il y a \_\_\_\_\_ cœurs roses dans le groupe ci-dessous.



4. Il y a \_\_\_\_\_ cœurs oranges dans le groupe ci-dessous.



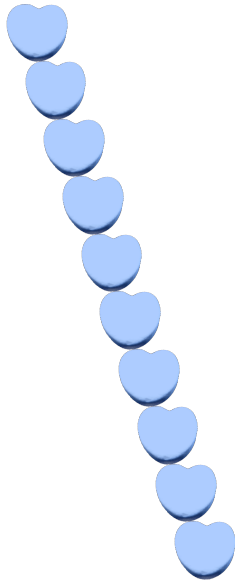
# Compter des bonbons en forme de cœurs (A) Réponses

Nom: \_\_\_\_\_


Date: \_\_\_\_\_

Comptes combien de bonbons en forme de cœurs il y a dans chaque groupe.


1. Il y a 10 cœurs bleus dans le groupe ci-dessous.



2. Il y a 6 cœurs oranges dans le groupe ci-dessous.



3. Il y a 9 cœurs roses dans le groupe ci-dessous.



4. Il y a 4 cœurs oranges dans le groupe ci-dessous.




## Compter des bonbons en forme de cœurs (B)

Nom: \_\_\_\_\_


Date: \_\_\_\_\_

Comptes combien de bonbons en forme de cœurs il y a dans chaque groupe.

1. Il y a \_\_\_\_\_ cœurs oranges dans le groupe ci-dessous.




2. Il y a \_\_\_\_\_ cœurs bleus dans le groupe ci-dessous.



3. Il y a \_\_\_\_\_ cœurs oranges dans le groupe ci-dessous.



4. Il y a \_\_\_\_\_ cœurs roses dans le groupe ci-dessous.




## Compter des bonbons en forme de cœurs (B) Réponses

Nom: \_\_\_\_\_


Date: \_\_\_\_\_

Comptes combien de bonbons en forme de cœurs il y a dans chaque groupe.

1. Il y a 4 cœurs oranges dans le groupe ci-dessous.




2. Il y a 7 cœurs bleus dans le groupe ci-dessous.



3. Il y a 5 cœurs oranges dans le groupe ci-dessous.



4. Il y a 8 cœurs roses dans le groupe ci-dessous.




## Compter des bonbons en forme de cœurs (C)

Nom: \_\_\_\_\_


Date: \_\_\_\_\_

Comptes combien de bonbons en forme de cœurs il y a dans chaque groupe.

1. Il y a \_\_\_\_\_ cœurs roses dans le groupe ci-dessous.



2. Il y a \_\_\_\_\_ cœurs bleus dans le groupe ci-dessous.



3. Il y a \_\_\_\_\_ cœurs oranges dans le groupe ci-dessous.



4. Il y a \_\_\_\_\_ cœurs oranges dans le groupe ci-dessous.




## Compter des bonbons en forme de cœurs (C) Réponses

Nom: \_\_\_\_\_


Date: \_\_\_\_\_

Comptes combien de bonbons en forme de cœurs il y a dans chaque groupe.

1. Il y a 6 cœurs roses dans le groupe ci-dessous.



2. Il y a 10 cœurs bleus dans le groupe ci-dessous.



3. Il y a 3 cœurs oranges dans le groupe ci-dessous.



4. Il y a 9 cœurs oranges dans le groupe ci-dessous.



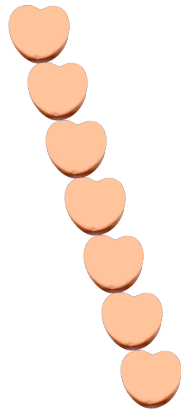
## Compter des bonbons en forme de cœurs (1)

Nom: \_\_\_\_\_


Date: \_\_\_\_\_

Comptes combien de bonbons en forme de cœurs il y a dans chaque groupe.

1. Il y a \_\_\_\_\_ cœurs oranges dans le groupe ci-dessous.



2. Il y a \_\_\_\_\_ cœurs bleus dans le groupe ci-dessous.



3. Il y a \_\_\_\_\_ cœurs roses dans le groupe ci-dessous.



4. Il y a \_\_\_\_\_ cœurs oranges dans le groupe ci-dessous.



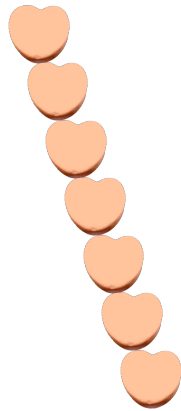
## Compter des bonbons en forme de cœurs (D) Réponses

Nom: \_\_\_\_\_


Date: \_\_\_\_\_

Comptes combien de bonbons en forme de cœurs il y a dans chaque groupe.

1. Il y a 7 cœurs oranges dans le groupe ci-dessous.



2. Il y a 5 cœurs bleus dans le groupe ci-dessous.



3. Il y a 3 cœurs roses dans le groupe ci-dessous.



4. Il y a 4 cœurs oranges dans le groupe ci-dessous.





## Compter des bonbons en forme de cœurs (E)

Nom: \_\_\_\_\_

Date: \_\_\_\_\_

Comptes combien de bonbons en forme de cœurs il y a dans chaque groupe.


1. Il y a \_\_\_\_\_ cœurs roses dans le groupe ci-dessous.




2. Il y a \_\_\_\_\_ cœurs oranges dans le groupe ci-dessous.



3. Il y a \_\_\_\_\_ cœurs oranges dans le groupe ci-dessous.



4. Il y a \_\_\_\_\_ cœurs bleus dans le groupe ci-dessous.



## Compter des bonbons en forme de cœurs (E) Réponses

Nom: \_\_\_\_\_

Date: \_\_\_\_\_

Comptes combien de bonbons en forme de cœurs il y a dans chaque groupe.


1. Il y a 10 cœurs roses dans le groupe ci-dessous.




2. Il y a 7 cœurs oranges dans le groupe ci-dessous.



3. Il y a 6 cœurs oranges dans le groupe ci-dessous.



4. Il y a 4 cœurs bleus dans le groupe ci-dessous.




## Compter des bonbons en forme de cœurs (F)

Nom: \_\_\_\_\_


Date: \_\_\_\_\_

Comptes combien de bonbons en forme de cœurs il y a dans chaque groupe.


1. Il y a \_\_\_\_\_ cœurs oranges dans le groupe ci-dessous.



2. Il y a \_\_\_\_\_ cœurs roses dans le groupe ci-dessous.



3. Il y a \_\_\_\_\_ cœurs bleus dans le groupe ci-dessous.



4. Il y a \_\_\_\_\_ cœurs oranges dans le groupe ci-dessous.




# Compter des bonbons en forme de cœurs (F) Réponses

Nom: \_\_\_\_\_


Date: \_\_\_\_\_

Comptes combien de bonbons en forme de cœurs il y a dans chaque groupe.


1. Il y a 6 cœurs oranges dans le groupe ci-dessous.



2. Il y a 8 cœurs roses dans le groupe ci-dessous.



3. Il y a 7 cœurs bleus dans le groupe ci-dessous.



4. Il y a 5 cœurs oranges dans le groupe ci-dessous.



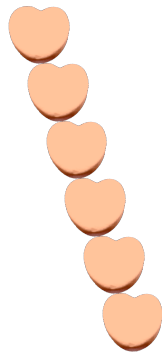
## Compter des bonbons en forme de cœurs (G)

Nom: \_\_\_\_\_

Date: \_\_\_\_\_

Comptes combien de bonbons en forme de cœurs il y a dans chaque groupe.


1. Il y a \_\_\_\_\_ cœurs oranges dans le groupe ci-dessous.



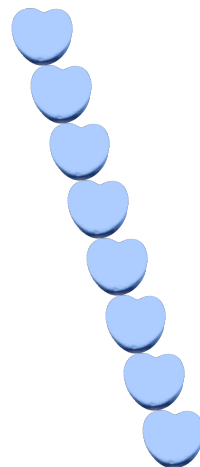
2. Il y a \_\_\_\_\_ cœurs oranges dans le groupe ci-dessous.



3. Il y a \_\_\_\_\_ cœurs roses dans le groupe ci-dessous.



4. Il y a \_\_\_\_\_ cœurs bleus dans le groupe ci-dessous.



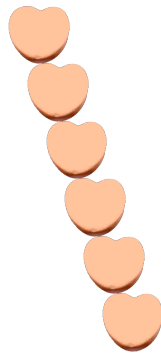
## Compter des bonbons en forme de cœurs (G) Réponses

Nom: \_\_\_\_\_

Date: \_\_\_\_\_

Comptes combien de bonbons en forme de cœurs il y a dans chaque groupe.


1. Il y a 6 cœurs oranges dans le groupe ci-dessous.



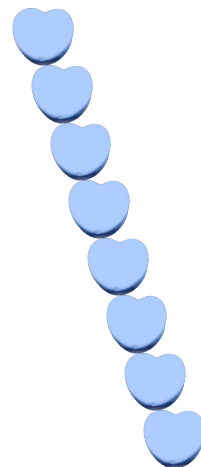
2. Il y a 3 cœurs oranges dans le groupe ci-dessous.



3. Il y a 5 cœurs roses dans le groupe ci-dessous.



4. Il y a 8 cœurs bleus dans le groupe ci-dessous.



# Compter des bonbons en forme de cœurs (7)

Nom: \_\_\_\_\_


Date: \_\_\_\_\_

Comptes combien de bonbons en forme de cœurs il y a dans chaque groupe.

1. Il y a \_\_\_\_\_ cœurs oranges dans le groupe ci-dessous.




2. Il y a \_\_\_\_\_ cœurs bleus dans le groupe ci-dessous.



3. Il y a \_\_\_\_\_ cœurs oranges dans le groupe ci-dessous.



4. Il y a \_\_\_\_\_ cœurs roses dans le groupe ci-dessous.



# Compter des bonbons en forme de cœurs (7) Réponses

Nom: \_\_\_\_\_


Date: \_\_\_\_\_

Comptes combien de bonbons en forme de cœurs il y a dans chaque groupe.

1. Il y a 3 cœurs oranges dans le groupe ci-dessous.




2. Il y a 10 cœurs bleus dans le groupe ci-dessous.



3. Il y a 8 cœurs oranges dans le groupe ci-dessous.



4. Il y a 7 cœurs roses dans le groupe ci-dessous.





## Compter des bonbons en forme de cœurs (9)

Nom: \_\_\_\_\_

Date: \_\_\_\_\_

Comptes combien de bonbons en forme de cœurs il y a dans chaque groupe.

1. Il y a \_\_\_\_\_ cœurs roses dans le groupe ci-dessous.




2. Il y a \_\_\_\_\_ cœurs oranges dans le groupe ci-dessous.



3. Il y a \_\_\_\_\_ cœurs oranges dans le groupe ci-dessous.



4. Il y a \_\_\_\_\_ cœurs bleus dans le groupe ci-dessous.



## Compter des bonbons en forme de cœurs (9) Réponses

Nom: \_\_\_\_\_

Date: \_\_\_\_\_

Comptes combien de bonbons en forme de cœurs il y a dans chaque groupe.

1. Il y a 3 cœurs roses dans le groupe ci-dessous.




2. Il y a 8 cœurs oranges dans le groupe ci-dessous.



3. Il y a 4 cœurs oranges dans le groupe ci-dessous.



4. Il y a 9 cœurs bleus dans le groupe ci-dessous.




## Compter des bonbons en forme de cœurs (9)

Nom: \_\_\_\_\_

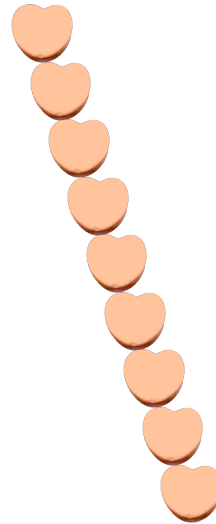
Date: \_\_\_\_\_

Comptes combien de bonbons en forme de cœurs il y a dans chaque groupe.


1. Il y a \_\_\_\_\_ cœurs oranges dans le groupe ci-dessous.



2. Il y a \_\_\_\_\_ cœurs oranges dans le groupe ci-dessous.



3. Il y a \_\_\_\_\_ cœurs roses dans le groupe ci-dessous.



4. Il y a \_\_\_\_\_ cœurs bleus dans le groupe ci-dessous.




## Compter des bonbons en forme de cœurs (9) Réponses

Nom: \_\_\_\_\_

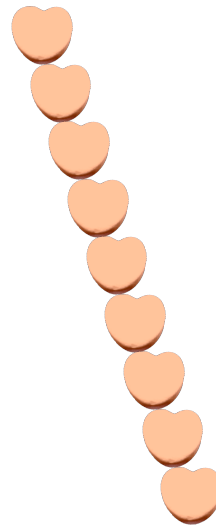
Date: \_\_\_\_\_

Comptes combien de bonbons en forme de cœurs il y a dans chaque groupe.


1. Il y a 10 cœurs oranges dans le groupe ci-dessous.



2. Il y a 9 cœurs oranges dans le groupe ci-dessous.



3. Il y a 8 cœurs roses dans le groupe ci-dessous.



4. Il y a 3 cœurs bleus dans le groupe ci-dessous.

