


Compter des bonbons en forme de cœurs (9)

Nom: _____

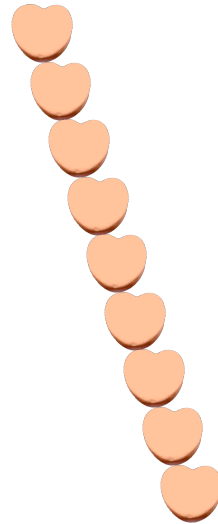
Date: _____

Comptes combien de bonbons en forme de cœurs il y a dans chaque groupe.


1. Il y a _____ cœurs oranges dans le groupe ci-dessous.



2. Il y a _____ cœurs oranges dans le groupe ci-dessous.



3. Il y a _____ cœurs roses dans le groupe ci-dessous.



4. Il y a _____ cœurs bleus dans le groupe ci-dessous.




Compter des bonbons en forme de cœurs (9) Réponses

Nom: _____

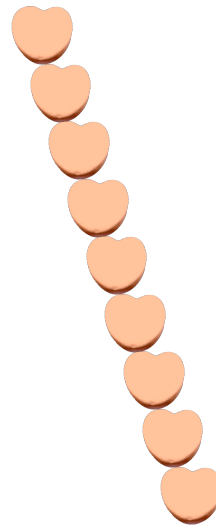
Date: _____

Comptes combien de bonbons en forme de cœurs il y a dans chaque groupe.


1. Il y a 10 cœurs oranges dans le groupe ci-dessous.



2. Il y a 9 cœurs oranges dans le groupe ci-dessous.



3. Il y a 8 cœurs roses dans le groupe ci-dessous.



4. Il y a 3 cœurs bleus dans le groupe ci-dessous.

