


# Compter des bonbons en forme de cœurs (A)

Nom: \_\_\_\_\_


Date: \_\_\_\_\_

Comptes combien de bonbons en forme de cœurs il y a dans chaque groupe.

1. Il y a \_\_\_\_\_ cœurs roses dans le groupe ci-dessous.



2. Il y a \_\_\_\_\_ cœurs bleus dans le groupe ci-dessous.



3. Il y a \_\_\_\_\_ cœurs oranges dans le groupe ci-dessous.



4. Il y a \_\_\_\_\_ cœurs oranges dans le groupe ci-dessous.




# Compter des bonbons en forme de cœurs (A) Réponses

Nom: \_\_\_\_\_


Date: \_\_\_\_\_

Comptes combien de bonbons en forme de cœurs il y a dans chaque groupe.

1. Il y a 28 cœurs roses dans le groupe ci-dessous.



2. Il y a 32 cœurs bleus dans le groupe ci-dessous.



3. Il y a 40 cœurs oranges dans le groupe ci-dessous.



4. Il y a 39 cœurs oranges dans le groupe ci-dessous.



# Compter des bonbons en forme de cœurs (B)

Nom: \_\_\_\_\_

Date: \_\_\_\_\_

Comptes combien de bonbons en forme de cœurs il y a dans chaque groupe.

1. Il y a \_\_\_\_\_ cœurs oranges dans le groupe ci-dessous.




2. Il y a \_\_\_\_\_ cœurs oranges dans le groupe ci-dessous.



3. Il y a \_\_\_\_\_ cœurs roses dans le groupe ci-dessous.



4. Il y a \_\_\_\_\_ cœurs bleus dans le groupe ci-dessous.



# Compter des bonbons en forme de cœurs (B) Réponses

Nom: \_\_\_\_\_

Date: \_\_\_\_\_

Comptes combien de bonbons en forme de cœurs il y a dans chaque groupe.

1. Il y a 28 cœurs oranges dans le groupe ci-dessous.




2. Il y a 31 cœurs oranges dans le groupe ci-dessous.



3. Il y a 26 cœurs roses dans le groupe ci-dessous.



4. Il y a 26 cœurs bleus dans le groupe ci-dessous.



# Compter des bonbons en forme de cœurs (C)

Nom: \_\_\_\_\_

Date: \_\_\_\_\_

Comptes combien de bonbons en forme de cœurs il y a dans chaque groupe.

1. Il y a \_\_\_\_\_ cœurs roses dans le groupe ci-dessous.



2. Il y a \_\_\_\_\_ cœurs oranges dans le groupe ci-dessous.



3. Il y a \_\_\_\_\_ cœurs bleus dans le groupe ci-dessous.



4. Il y a \_\_\_\_\_ cœurs oranges dans le groupe ci-dessous.



# Compter des bonbons en forme de cœurs (C) Réponses

Nom: \_\_\_\_\_

Date: \_\_\_\_\_

Comptes combien de bonbons en forme de cœurs il y a dans chaque groupe.


1. Il y a 23 cœurs roses dans le groupe ci-dessous.



2. Il y a 37 cœurs oranges dans le groupe ci-dessous.



3. Il y a 40 cœurs bleus dans le groupe ci-dessous.



4. Il y a 35 cœurs oranges dans le groupe ci-dessous.



# Compter des bonbons en forme de cœurs (1)

Nom: \_\_\_\_\_

Date: \_\_\_\_\_

Comptes combien de bonbons en forme de cœurs il y a dans chaque groupe.

1. Il y a \_\_\_\_\_ cœurs roses dans le groupe ci-dessous.



2. Il y a \_\_\_\_\_ cœurs bleus dans le groupe ci-dessous.



3. Il y a \_\_\_\_\_ cœurs oranges dans le groupe ci-dessous.



4. Il y a \_\_\_\_\_ cœurs oranges dans le groupe ci-dessous.



# Compter des bonbons en forme de cœurs (D) Réponses

Nom: \_\_\_\_\_

Date: \_\_\_\_\_

Comptes combien de bonbons en forme de cœurs il y a dans chaque groupe.

1. Il y a 30 cœurs roses dans le groupe ci-dessous.



2. Il y a 45 cœurs bleus dans le groupe ci-dessous.



3. Il y a 29 cœurs oranges dans le groupe ci-dessous.



4. Il y a 39 cœurs oranges dans le groupe ci-dessous.






# Compter des bonbons en forme de cœurs (E)

Nom: \_\_\_\_\_

Date: \_\_\_\_\_

Comptes combien de bonbons en forme de cœurs il y a dans chaque groupe.


1. Il y a \_\_\_\_\_ cœurs bleus dans le groupe ci-dessous.




2. Il y a \_\_\_\_\_ cœurs oranges dans le groupe ci-dessous.



3. Il y a \_\_\_\_\_ cœurs roses dans le groupe ci-dessous.



4. Il y a \_\_\_\_\_ cœurs oranges dans le groupe ci-dessous.




# Compter des bonbons en forme de cœurs (E) Réponses

Nom: \_\_\_\_\_

Date: \_\_\_\_\_

Comptes combien de bonbons en forme de cœurs il y a dans chaque groupe.


1. Il y a 39 cœurs bleus dans le groupe ci-dessous.




2. Il y a 25 cœurs oranges dans le groupe ci-dessous.



3. Il y a 39 cœurs roses dans le groupe ci-dessous.



4. Il y a 40 cœurs oranges dans le groupe ci-dessous.



# Compter des bonbons en forme de cœurs (F)

Nom: \_\_\_\_\_


Date: \_\_\_\_\_

Comptes combien de bonbons en forme de cœurs il y a dans chaque groupe.

1. Il y a \_\_\_\_\_ cœurs roses dans le groupe ci-dessous.



2. Il y a \_\_\_\_\_ cœurs bleus dans le groupe ci-dessous.



3. Il y a \_\_\_\_\_ cœurs oranges dans le groupe ci-dessous.



4. Il y a \_\_\_\_\_ cœurs oranges dans le groupe ci-dessous.



# Compter des bonbons en forme de cœurs (F) Réponses

Nom: \_\_\_\_\_

Date: \_\_\_\_\_

Comptes combien de bonbons en forme de cœurs il y a dans chaque groupe.

1. Il y a 20 cœurs roses dans le groupe ci-dessous.



2. Il y a 41 cœurs bleus dans le groupe ci-dessous.



3. Il y a 30 cœurs oranges dans le groupe ci-dessous.



4. Il y a 34 cœurs oranges dans le groupe ci-dessous.




# Compter des bonbons en forme de cœurs (G)

Nom: \_\_\_\_\_

Date: \_\_\_\_\_

Comptes combien de bonbons en forme de cœurs il y a dans chaque groupe.

1. Il y a \_\_\_\_\_ cœurs bleus dans le groupe ci-dessous.



2. Il y a \_\_\_\_\_ cœurs oranges dans le groupe ci-dessous.



3. Il y a \_\_\_\_\_ cœurs roses dans le groupe ci-dessous.



4. Il y a \_\_\_\_\_ cœurs bleus dans le groupe ci-dessous.




# Compter des bonbons en forme de cœurs (G) Réponses

Nom: \_\_\_\_\_

Date: \_\_\_\_\_

Comptes combien de bonbons en forme de cœurs il y a dans chaque groupe.

1. Il y a 33 cœurs bleus dans le groupe ci-dessous.



2. Il y a 47 cœurs oranges dans le groupe ci-dessous.



3. Il y a 31 cœurs oranges dans le groupe ci-dessous.



4. Il y a 27 cœurs roses dans le groupe ci-dessous.



# Compter des bonbons en forme de cœurs (7)

Nom: \_\_\_\_\_

Date: \_\_\_\_\_

Comptes combien de bonbons en forme de cœurs il y a dans chaque groupe.

1. Il y a \_\_\_\_\_ cœurs roses dans le groupe ci-dessous.




2. Il y a \_\_\_\_\_ cœurs oranges dans le groupe ci-dessous.



3. Il y a \_\_\_\_\_ cœurs oranges dans le groupe ci-dessous.



4. Il y a \_\_\_\_\_ cœurs bleus dans le groupe ci-dessous.



# Compter des bonbons en forme de cœurs (7) Réponses

Nom: \_\_\_\_\_

Date: \_\_\_\_\_

Comptes combien de bonbons en forme de cœurs il y a dans chaque groupe.

1. Il y a 35 cœurs roses dans le groupe ci-dessous.




2. Il y a 34 cœurs oranges dans le groupe ci-dessous.



3. Il y a 45 cœurs oranges dans le groupe ci-dessous.



4. Il y a 35 cœurs bleus dans le groupe ci-dessous.





# Compter des bonbons en forme de cœurs (9)

Nom: \_\_\_\_\_


Date: \_\_\_\_\_

Comptes combien de bonbons en forme de cœurs il y a dans chaque groupe.


1. Il y a \_\_\_\_\_ cœurs oranges dans le groupe ci-dessous.



2. Il y a \_\_\_\_\_ cœurs roses dans le groupe ci-dessous.



3. Il y a \_\_\_\_\_ cœurs bleus dans le groupe ci-dessous.



4. Il y a \_\_\_\_\_ cœurs oranges dans le groupe ci-dessous.



# Compter des bonbons en forme de cœurs (9) Réponses

Nom: \_\_\_\_\_


Date: \_\_\_\_\_

Comptes combien de bonbons en forme de cœurs il y a dans chaque groupe.


1. Il y a 47 cœurs oranges dans le groupe ci-dessous.



2. Il y a 25 cœurs roses dans le groupe ci-dessous.



3. Il y a 35 cœurs bleus dans le groupe ci-dessous.



4. Il y a 45 cœurs oranges dans le groupe ci-dessous.




# Compter des bonbons en forme de cœurs (9)

Nom: \_\_\_\_\_

Date: \_\_\_\_\_

Comptes combien de bonbons en forme de cœurs il y a dans chaque groupe.


1. Il y a \_\_\_\_\_ cœurs roses dans le groupe ci-dessous.



2. Il y a \_\_\_\_\_ cœurs oranges dans le groupe ci-dessous.



3. Il y a \_\_\_\_\_ cœurs oranges dans le groupe ci-dessous.



4. Il y a \_\_\_\_\_ cœurs bleus dans le groupe ci-dessous.




# Compter des bonbons en forme de cœurs (9) Réponses

Nom: \_\_\_\_\_

Date: \_\_\_\_\_

Comptes combien de bonbons en forme de cœurs il y a dans chaque groupe.

1. Il y a 23 cœurs roses dans le groupe ci-dessous.



2. Il y a 41 cœurs oranges dans le groupe ci-dessous.



3. Il y a 31 cœurs oranges dans le groupe ci-dessous.



4. Il y a 46 cœurs bleus dans le groupe ci-dessous.

