


# Compter des bonbons en forme de cœurs (9)

Nom: \_\_\_\_\_

Date: \_\_\_\_\_

Comptes combien de bonbons en forme de cœurs il y a dans chaque groupe.


1. Il y a \_\_\_\_\_ cœurs roses dans le groupe ci-dessous.



2. Il y a \_\_\_\_\_ cœurs oranges dans le groupe ci-dessous.



3. Il y a \_\_\_\_\_ cœurs oranges dans le groupe ci-dessous.



4. Il y a \_\_\_\_\_ cœurs bleus dans le groupe ci-dessous.




# Compter des bonbons en forme de cœurs (9) Réponses

Nom: \_\_\_\_\_

Date: \_\_\_\_\_

Comptes combien de bonbons en forme de cœurs il y a dans chaque groupe.

1. Il y a 23 cœurs roses dans le groupe ci-dessous.



2. Il y a 41 cœurs oranges dans le groupe ci-dessous.



3. Il y a 31 cœurs oranges dans le groupe ci-dessous.



4. Il y a 46 cœurs bleus dans le groupe ci-dessous.

