


Compter des bonbons en forme de cœurs (7)

Nom: _____

Date: _____

Comptes combien de bonbons en forme de cœurs il y a dans chaque groupe.


1. Il y a _____ cœurs oranges dans le groupe ci-dessous.




2. Il y a _____ cœurs roses dans le groupe ci-dessous.



3. Il y a _____ cœurs bleus dans le groupe ci-dessous.



4. Il y a _____ cœurs verts dans le groupe ci-dessous.




Compter des bonbons en forme de cœurs (7) Réponses

Nom: _____

Date: _____

Comptes combien de bonbons en forme de cœurs il y a dans chaque groupe.


1. Il y a 5 cœurs oranges dans le groupe ci-dessous.



2. Il y a 6 cœurs oranges dans le groupe ci-dessous.



3. Il y a 3 cœurs roses dans le groupe ci-dessous.



4. Il y a 7 cœurs bleus dans le groupe ci-dessous.

