

# Fréquences du lapin de Pâques (I)






Nom: \_\_\_\_\_

Date: \_\_\_\_\_

Note: \_\_\_\_\_

Déterminez la fréquence, la fréquence relative et le pourcentage (à une décimale près) de chaque élément.



Article	Fréquence	Fréquence relative	Pourcentage
			
			
			
			
			

# Fréquences du lapin de Pâques (I) Réponses






Nom: \_\_\_\_\_

Date: \_\_\_\_\_

Note: \_\_\_\_\_

Déterminez la fréquence, la fréquence relative et le pourcentage (à une décimale près) de chaque élément.



Article	Fréquence	Fréquence relative	Pourcentage
	49	$\frac{49}{180}$	27.2%
	37	$\frac{37}{180}$	20.6%
	35	$\frac{35}{180} = \frac{7}{36}$	19.4%
	19	$\frac{19}{180}$	10.6%
	40	$\frac{40}{180} = \frac{2}{9}$	22.2%