

Fréquences du lapin de Pâques (H)






Nom: _____

Date: _____

Note: _____

Déterminez la fréquence, la fréquence relative et le pourcentage (à une décimale près) de chaque élément.



Article	Fréquence	Fréquence relative	Pourcentage
			
			
			
			
			

Fréquences du lapin de Pâques (H) Réponses






Nom: _____

Date: _____

Note: _____

Déterminez la fréquence, la fréquence relative et le pourcentage (à une décimale près) de chaque élément.



Article	Fréquence	Fréquence relative	Pourcentage
	34	$\frac{34}{180} = \frac{17}{90}$	18.9%
	50	$\frac{50}{180} = \frac{5}{18}$	27.8%
	43	$\frac{43}{180}$	23.9%
	17	$\frac{17}{180}$	9.4%
	36	$\frac{36}{180} = \frac{1}{5}$	20%