

Fréquences du lapin de Pâques (F)






Nom: _____

Date: _____

Note: _____

Déterminez la fréquence, la fréquence relative et le pourcentage (à une décimale près) de chaque élément.



Article	Fréquence	Fréquence relative	Pourcentage
			
			
			
			
			

Fréquences du lapin de Pâques (F) Réponses






Nom: _____

Date: _____

Note: _____

Déterminez la fréquence, la fréquence relative et le pourcentage (à une décimale près) de chaque élément.



Article	Fréquence	Fréquence relative	Pourcentage
	40	$\frac{40}{180} = \frac{2}{9}$	22.2%
	20	$\frac{20}{180} = \frac{1}{9}$	11.1%
	58	$\frac{58}{180} = \frac{29}{90}$	32.2%
	25	$\frac{25}{180} = \frac{5}{36}$	13.9%
	37	$\frac{37}{180}$	20.6%