

Fréquences du lapin de Pâques (E)






Nom: _____

Date: _____

Note: _____

Déterminez la fréquence, la fréquence relative et le pourcentage (à une décimale près) de chaque élément.



Article	Fréquence	Fréquence relative	Pourcentage
			
			
			
			
			

Fréquences du lapin de Pâques (E) Réponses






Nom: _____

Date: _____

Note: _____

Déterminez la fréquence, la fréquence relative et le pourcentage (à une décimale près) de chaque élément.



Article	Fréquence	Fréquence relative	Pourcentage
	26	$\frac{26}{180} = \frac{13}{90}$	14.4%
	37	$\frac{37}{180}$	20.6%
	30	$\frac{30}{180} = \frac{1}{6}$	16.7%
	33	$\frac{33}{180} = \frac{11}{60}$	18.3%
	54	$\frac{54}{180} = \frac{3}{10}$	30%