

Fréquences du lapin de Pâques (D)






Nom: _____

Date: _____

Note: _____

Déterminez la fréquence, la fréquence relative et le pourcentage (à une décimale près) de chaque élément.



| Article | Fréquence | Fréquence relative | Pourcentage |
|---|-----------|--------------------|-------------|
|  | | | |
|  | | | |
|  | | | |
|  | | | |
|  | | | |