

Fréquences du lapin de Pâques (D)






Nom: _____

Date: _____

Note: _____

Déterminez la fréquence, la fréquence relative et le pourcentage (à une décimale près) de chaque élément.



Article	Fréquence	Fréquence relative	Pourcentage
			
			
			
			
			

Fréquences du lapin de Pâques (D) Réponses






Nom: _____

Date: _____

Note: _____

Déterminez la fréquence, la fréquence relative et le pourcentage (à une décimale près) de chaque élément.



Article	Fréquence	Fréquence relative	Pourcentage
	17	$\frac{17}{180}$	9.4%
	40	$\frac{40}{180} = \frac{2}{9}$	22.2%
	24	$\frac{24}{180} = \frac{2}{15}$	13.3%
	23	$\frac{23}{180}$	12.8%
	76	$\frac{76}{180} = \frac{19}{45}$	42.2%