

Fréquences du lapin de Pâques (C)






Nom: _____

Date: _____

Note: _____

Déterminez la fréquence, la fréquence relative et le pourcentage (à une décimale près) de chaque élément.



Article	Fréquence	Fréquence relative	Pourcentage
			
			
			
			
			

Fréquences du lapin de Pâques (C) Réponses






Nom: _____

Date: _____

Note: _____

Déterminez la fréquence, la fréquence relative et le pourcentage (à une décimale près) de chaque élément.



Article	Fréquence	Fréquence relative	Pourcentage
	36	$\frac{36}{180} = \frac{1}{5}$	20%
	42	$\frac{42}{180} = \frac{7}{30}$	23.3%
	35	$\frac{35}{180} = \frac{7}{36}$	19.4%
	43	$\frac{43}{180}$	23.9%
	24	$\frac{24}{180} = \frac{2}{15}$	13.3%