

Fréquences du lapin de Pâques (A)






Nom: _____

Date: _____

Note: _____

Déterminez la fréquence, la fréquence relative et le pourcentage (à une décimale près) de chaque élément.



Article	Fréquence	Fréquence relative	Pourcentage
			
			
			
			
			

Fréquences du lapin de Pâques (A) Réponses






Nom: _____

Date: _____

Note: _____

Déterminez la fréquence, la fréquence relative et le pourcentage (à une décimale près) de chaque élément.



Article	Fréquence	Fréquence relative	Pourcentage
	23	$\frac{23}{180}$	12.8%
	47	$\frac{47}{180}$	26.1%
	44	$\frac{44}{180} = \frac{11}{45}$	24.4%
	29	$\frac{29}{180}$	16.1%
	37	$\frac{37}{180}$	20.6%