




# Œufs de Pâques dans le Panier (H)


Mettez les œufs de Pâques qui ont des sommes supérieures à 198 dans le panier.



$$\begin{array}{r} 132 \\ + 94 \\ \hline \end{array}$$



$$\begin{array}{r} 112 \\ + 16 \\ \hline \end{array}$$



$$\begin{array}{r} 9 \\ + 11 \\ \hline \end{array}$$



$$\begin{array}{r} 42 \\ + 176 \\ \hline \end{array}$$



$$\begin{array}{r} 186 \\ + 49 \\ \hline \end{array}$$



$$\begin{array}{r} 142 \\ + 127 \\ \hline \end{array}$$



$$\begin{array}{r} 156 \\ + 76 \\ \hline \end{array}$$



$$\begin{array}{r} 49 \\ + 40 \\ \hline \end{array}$$



$$\begin{array}{r} 25 \\ + 184 \\ \hline \end{array}$$


$$\begin{array}{r} 95 \\ + 165 \\ \hline \end{array}$$



$$\begin{array}{r} 94 \\ + 11 \\ \hline \end{array}$$



$$\begin{array}{r} 16 \\ + 63 \\ \hline \end{array}$$



$$\begin{array}{r} 75 \\ + 39 \\ \hline \end{array}$$


$$\begin{array}{r} 109 \\ + 36 \\ \hline \end{array}$$


$$\begin{array}{r} 5 \\ + 195 \\ \hline \end{array}$$


$$\begin{array}{r} 107 \\ + 171 \\ \hline \end{array}$$


$$\begin{array}{r} 118 \\ + 89 \\ \hline \end{array}$$


$$\begin{array}{r} 145 \\ + 8 \\ \hline \end{array}$$


$$\begin{array}{r} 49 \\ + 38 \\ \hline \end{array}$$


$$\begin{array}{r} 98 \\ + 38 \\ \hline \end{array}$$




Combien d'œufs de Pâques iront dans ce panier?


Joyeuses Pâques de la part de Mathslibres.com!


# Œufs de Pâques dans le Panier (H) Réponses


Mettez les oeufs de Pâques qui ont des sommes supérieures à 198 dans le panier.


$$\begin{array}{r} 132 \\ + 94 \\ \hline 226 \end{array}$$


$$\begin{array}{r} 112 \\ + 16 \\ \hline 128 \end{array}$$



$$\begin{array}{r} 9 \\ + 11 \\ \hline 20 \end{array}$$



$$\begin{array}{r} 42 \\ + 176 \\ \hline 218 \end{array}$$



$$\begin{array}{r} 186 \\ + 49 \\ \hline 235 \end{array}$$



$$\begin{array}{r} 142 \\ + 127 \\ \hline 269 \end{array}$$



$$\begin{array}{r} 156 \\ + 76 \\ \hline 232 \end{array}$$



$$\begin{array}{r} 49 \\ + 40 \\ \hline 89 \end{array}$$



$$\begin{array}{r} 25 \\ + 184 \\ \hline 209 \end{array}$$



$$\begin{array}{r} 95 \\ + 165 \\ \hline 260 \end{array}$$



$$\begin{array}{r} 94 \\ + 11 \\ \hline 105 \end{array}$$



$$\begin{array}{r} 16 \\ + 63 \\ \hline 79 \end{array}$$


$$\begin{array}{r} 75 \\ + 39 \\ \hline 114 \end{array}$$



$$\begin{array}{r} 109 \\ + 36 \\ \hline 145 \end{array}$$



$$\begin{array}{r} 5 \\ + 195 \\ \hline 200 \end{array}$$


$$\begin{array}{r} 107 \\ + 171 \\ \hline 278 \end{array}$$


$$\begin{array}{r} 118 \\ + 89 \\ \hline 207 \end{array}$$


$$\begin{array}{r} 145 \\ + 8 \\ \hline 153 \end{array}$$


$$\begin{array}{r} 49 \\ + 38 \\ \hline 87 \end{array}$$


$$\begin{array}{r} 98 \\ + 38 \\ \hline 136 \end{array}$$



Combien d'œufs de Pâques iront dans ce panier?

10

Joyeuses Pâques de la part de Mathslibres.com!