





Œufs de Pâques dans le Panier (C)


Mettez les œufs de Pâques qui ont des sommes supérieures à 198 dans le panier.



$$\begin{array}{r} 181 \\ + 145 \\ \hline \end{array}$$



$$\begin{array}{r} 53 \\ + 189 \\ \hline \end{array}$$



$$\begin{array}{r} 178 \\ + 27 \\ \hline \end{array}$$



$$\begin{array}{r} 186 \\ + 142 \\ \hline \end{array}$$


$$\begin{array}{r} 77 \\ + 193 \\ \hline \end{array}$$



$$\begin{array}{r} 108 \\ + 111 \\ \hline \end{array}$$


$$\begin{array}{r} 71 \\ + 68 \\ \hline \end{array}$$



$$\begin{array}{r} 52 \\ + 99 \\ \hline \end{array}$$



$$\begin{array}{r} 50 \\ + 101 \\ \hline \end{array}$$


$$\begin{array}{r} 75 \\ + 109 \\ \hline \end{array}$$



$$\begin{array}{r} 41 \\ + 75 \\ \hline \end{array}$$



$$\begin{array}{r} 100 \\ + 9 \\ \hline \end{array}$$



$$\begin{array}{r} 88 \\ + 61 \\ \hline \end{array}$$



$$\begin{array}{r} 143 \\ + 144 \\ \hline \end{array}$$


$$\begin{array}{r} 64 \\ + 66 \\ \hline \end{array}$$


$$\begin{array}{r} 191 \\ + 29 \\ \hline \end{array}$$


$$\begin{array}{r} 11 \\ + 85 \\ \hline \end{array}$$


$$\begin{array}{r} 100 \\ + 165 \\ \hline \end{array}$$


$$\begin{array}{r} 133 \\ + 33 \\ \hline \end{array}$$


$$\begin{array}{r} 170 \\ + 32 \\ \hline \end{array}$$





Combien d'œufs de Pâques iront dans ce panier?


Joyeuses Pâques de la part de Mathslibres.com!

Œufs de Pâques dans le Panier (C) Réponses


Mettez les oeufs de Pâques qui ont des sommes supérieures à 198 dans le panier.



$$\begin{array}{r} 181 \\ + 145 \\ \hline 326 \end{array}$$


$$\begin{array}{r} 53 \\ + 189 \\ \hline 242 \end{array}$$



$$\begin{array}{r} 178 \\ + 27 \\ \hline 205 \end{array}$$



$$\begin{array}{r} 186 \\ + 142 \\ \hline 328 \end{array}$$



$$\begin{array}{r} 77 \\ + 193 \\ \hline 270 \end{array}$$


$$\begin{array}{r} 108 \\ + 111 \\ \hline 219 \end{array}$$



$$\begin{array}{r} 71 \\ + 68 \\ \hline 139 \end{array}$$



$$\begin{array}{r} 52 \\ + 99 \\ \hline 151 \end{array}$$



$$\begin{array}{r} 50 \\ + 101 \\ \hline 151 \end{array}$$



$$\begin{array}{r} 75 \\ + 109 \\ \hline 184 \end{array}$$



$$\begin{array}{r} 41 \\ + 75 \\ \hline 116 \end{array}$$


$$\begin{array}{r} 100 \\ + 9 \\ \hline 109 \end{array}$$



$$\begin{array}{r} 88 \\ + 61 \\ \hline 149 \end{array}$$


$$\begin{array}{r} 143 \\ + 144 \\ \hline 287 \end{array}$$



$$\begin{array}{r} 64 \\ + 66 \\ \hline 130 \end{array}$$

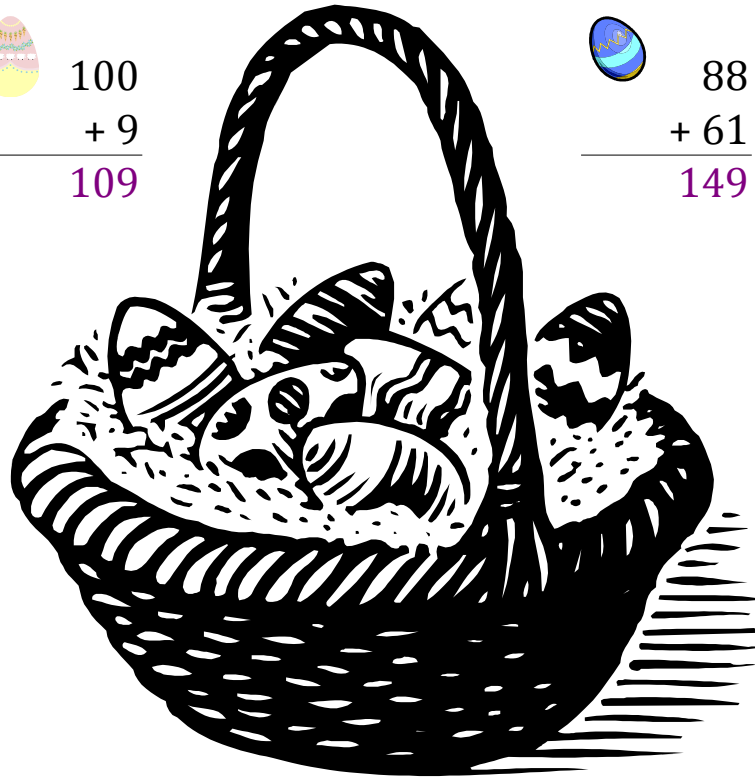

$$\begin{array}{r} 191 \\ + 29 \\ \hline 220 \end{array}$$


$$\begin{array}{r} 11 \\ + 85 \\ \hline 96 \end{array}$$


$$\begin{array}{r} 100 \\ + 165 \\ \hline 265 \end{array}$$


$$\begin{array}{r} 133 \\ + 33 \\ \hline 166 \end{array}$$


$$\begin{array}{r} 170 \\ + 32 \\ \hline 202 \end{array}$$



Combien d'œufs de Pâques iront dans ce panier?

10