




Œufs de Pâques dans le Panier (A)


Mettez les œufs de Pâques qui ont des sommes supérieures à 198 dans le panier.



$$\begin{array}{r} 104 \\ + 74 \\ \hline \end{array}$$



$$\begin{array}{r} 62 \\ + 143 \\ \hline \end{array}$$



$$\begin{array}{r} 43 \\ + 164 \\ \hline \end{array}$$



$$\begin{array}{r} 80 \\ + 58 \\ \hline \end{array}$$


$$\begin{array}{r} 106 \\ + 70 \\ \hline \end{array}$$



$$\begin{array}{r} 181 \\ + 186 \\ \hline \end{array}$$



$$\begin{array}{r} 38 \\ + 29 \\ \hline \end{array}$$



$$\begin{array}{r} 85 \\ + 14 \\ \hline \end{array}$$



$$\begin{array}{r} 34 \\ + 89 \\ \hline \end{array}$$


$$\begin{array}{r} 16 \\ + 9 \\ \hline \end{array}$$



$$\begin{array}{r} 4 \\ + 95 \\ \hline \end{array}$$



$$\begin{array}{r} 68 \\ + 197 \\ \hline \end{array}$$



$$\begin{array}{r} 111 \\ + 5 \\ \hline \end{array}$$



$$\begin{array}{r} 11 \\ + 172 \\ \hline \end{array}$$


$$\begin{array}{r} 17 \\ + 3 \\ \hline \end{array}$$


$$\begin{array}{r} 15 \\ + 88 \\ \hline \end{array}$$


$$\begin{array}{r} 6 \\ + 41 \\ \hline \end{array}$$


$$\begin{array}{r} 53 \\ + 16 \\ \hline \end{array}$$


$$\begin{array}{r} 192 \\ + 99 \\ \hline \end{array}$$


$$\begin{array}{r} 102 \\ + 73 \\ \hline \end{array}$$





Combien d'œufs de Pâques iront dans ce panier?

Joyeuses Pâques de la part de Mathslibres.com!


Œufs de Pâques dans le Panier (A) Réponses


Mettez les oeufs de Pâques qui ont des sommes supérieures à 198 dans le panier.


$$\begin{array}{r} 104 \\ + 74 \\ \hline 178 \end{array}$$


$$\begin{array}{r} 62 \\ + 143 \\ \hline 205 \end{array}$$



$$\begin{array}{r} 43 \\ + 164 \\ \hline 207 \end{array}$$


$$\begin{array}{r} 80 \\ + 58 \\ \hline 138 \end{array}$$



$$\begin{array}{r} 106 \\ + 70 \\ \hline 176 \end{array}$$



$$\begin{array}{r} 181 \\ + 186 \\ \hline 367 \end{array}$$


$$\begin{array}{r} 38 \\ + 29 \\ \hline 67 \end{array}$$



$$\begin{array}{r} 85 \\ + 14 \\ \hline 99 \end{array}$$



$$\begin{array}{r} 34 \\ + 89 \\ \hline 123 \end{array}$$



$$\begin{array}{r} 16 \\ + 9 \\ \hline 25 \end{array}$$



$$\begin{array}{r} 4 \\ + 95 \\ \hline 99 \end{array}$$



$$\begin{array}{r} 68 \\ + 197 \\ \hline 265 \end{array}$$



$$\begin{array}{r} 111 \\ + 5 \\ \hline 116 \end{array}$$


$$\begin{array}{r} 11 \\ + 172 \\ \hline 183 \end{array}$$



$$\begin{array}{r} 17 \\ + 3 \\ \hline 20 \end{array}$$


$$\begin{array}{r} 15 \\ + 88 \\ \hline 103 \end{array}$$


$$\begin{array}{r} 6 \\ + 41 \\ \hline 47 \end{array}$$


$$\begin{array}{r} 53 \\ + 16 \\ \hline 69 \end{array}$$


$$\begin{array}{r} 192 \\ + 99 \\ \hline 291 \end{array}$$


$$\begin{array}{r} 102 \\ + 73 \\ \hline 175 \end{array}$$



Combien d'œufs de Pâques iront dans ce panier?

5

Joyeuses Pâques de la part de Mathslibres.com!