



Œufs de Pâques dans le Panier (H)


Mettez les œufs de Pâques qui ont des sommes supérieures à 98 dans le panier.


$$\begin{array}{r} 51 \\ + 16 \\ \hline \end{array}$$



$$\begin{array}{r} 22 \\ + 25 \\ \hline \end{array}$$



$$\begin{array}{r} 64 \\ + 22 \\ \hline \end{array}$$



$$\begin{array}{r} 17 \\ + 37 \\ \hline \end{array}$$



$$\begin{array}{r} 41 \\ + 82 \\ \hline \end{array}$$


$$\begin{array}{r} 76 \\ + 53 \\ \hline \end{array}$$


$$\begin{array}{r} 47 \\ + 32 \\ \hline \end{array}$$



$$\begin{array}{r} 2 \\ + 24 \\ \hline \end{array}$$


$$\begin{array}{r} 15 \\ + 81 \\ \hline \end{array}$$


$$\begin{array}{r} 63 \\ + 97 \\ \hline \end{array}$$



$$\begin{array}{r} 56 \\ + 53 \\ \hline \end{array}$$



$$\begin{array}{r} 74 \\ + 32 \\ \hline \end{array}$$



$$\begin{array}{r} 51 \\ + 24 \\ \hline \end{array}$$



$$\begin{array}{r} 50 \\ + 58 \\ \hline \end{array}$$


$$\begin{array}{r} 5 \\ + 76 \\ \hline \end{array}$$


$$\begin{array}{r} 18 \\ + 92 \\ \hline \end{array}$$


$$\begin{array}{r} 27 \\ + 57 \\ \hline \end{array}$$


$$\begin{array}{r} 22 \\ + 31 \\ \hline \end{array}$$


$$\begin{array}{r} 4 \\ + 9 \\ \hline \end{array}$$


$$\begin{array}{r} 41 \\ + 82 \\ \hline \end{array}$$





Combien d'œufs de Pâques iront dans ce panier?


Joyeuses Pâques de la part de Mathslibres.com!


Œufs de Pâques dans le Panier (H) Réponses


Mettez les oeufs de Pâques qui ont des sommes supérieures à 98 dans le panier.



$$\begin{array}{r} 51 \\ + 16 \\ \hline 67 \end{array}$$


$$\begin{array}{r} 22 \\ + 25 \\ \hline 47 \end{array}$$



$$\begin{array}{r} 64 \\ + 22 \\ \hline 86 \end{array}$$



$$\begin{array}{r} 17 \\ + 37 \\ \hline 54 \end{array}$$



$$\begin{array}{r} 41 \\ + 82 \\ \hline 123 \end{array}$$



$$\begin{array}{r} 76 \\ + 53 \\ \hline 129 \end{array}$$



$$\begin{array}{r} 47 \\ + 32 \\ \hline 79 \end{array}$$



$$\begin{array}{r} 2 \\ + 24 \\ \hline 26 \end{array}$$



$$\begin{array}{r} 15 \\ + 81 \\ \hline 96 \end{array}$$



$$\begin{array}{r} 63 \\ + 97 \\ \hline 160 \end{array}$$



$$\begin{array}{r} 56 \\ + 53 \\ \hline 109 \end{array}$$



$$\begin{array}{r} 74 \\ + 32 \\ \hline 106 \end{array}$$



$$\begin{array}{r} 51 \\ + 24 \\ \hline 75 \end{array}$$


$$\begin{array}{r} 50 \\ + 58 \\ \hline 108 \end{array}$$



$$\begin{array}{r} 5 \\ + 76 \\ \hline 81 \end{array}$$



$$\begin{array}{r} 18 \\ + 92 \\ \hline 110 \end{array}$$


$$\begin{array}{r} 27 \\ + 57 \\ \hline 84 \end{array}$$


$$\begin{array}{r} 22 \\ + 31 \\ \hline 53 \end{array}$$


$$\begin{array}{r} 4 \\ + 9 \\ \hline 13 \end{array}$$


$$\begin{array}{r} 41 \\ + 82 \\ \hline 123 \end{array}$$



Combien d'œufs de Pâques iront dans ce panier?

8

Joyeuses Pâques de la part de Mathslibres.com!