




Œufs de Pâques dans le Panier (B)

Mettez les œufs de Pâques qui ont des sommes supérieures à 98 dans le panier.


$$\begin{array}{r} 94 \\ + 46 \\ \hline \end{array}$$



$$\begin{array}{r} 67 \\ + 76 \\ \hline \end{array}$$



$$\begin{array}{r} 47 \\ + 85 \\ \hline \end{array}$$



$$\begin{array}{r} 55 \\ + 97 \\ \hline \end{array}$$



$$\begin{array}{r} 16 \\ + 86 \\ \hline \end{array}$$



$$\begin{array}{r} 80 \\ + 48 \\ \hline \end{array}$$



$$\begin{array}{r} 55 \\ + 32 \\ \hline \end{array}$$



$$\begin{array}{r} 90 \\ + 41 \\ \hline \end{array}$$



$$\begin{array}{r} 56 \\ + 85 \\ \hline \end{array}$$



$$\begin{array}{r} 49 \\ + 20 \\ \hline \end{array}$$



$$\begin{array}{r} 4 \\ + 38 \\ \hline \end{array}$$



$$\begin{array}{r} 78 \\ + 67 \\ \hline \end{array}$$



$$\begin{array}{r} 68 \\ + 75 \\ \hline \end{array}$$



$$\begin{array}{r} 23 \\ + 43 \\ \hline \end{array}$$


$$\begin{array}{r} 55 \\ + 1 \\ \hline \end{array}$$


$$\begin{array}{r} 51 \\ + 76 \\ \hline \end{array}$$


$$\begin{array}{r} 6 \\ + 26 \\ \hline \end{array}$$


$$\begin{array}{r} 18 \\ + 4 \\ \hline \end{array}$$


$$\begin{array}{r} 10 \\ + 3 \\ \hline \end{array}$$


$$\begin{array}{r} 85 \\ + 76 \\ \hline \end{array}$$



Combien d'œufs de Pâques iront dans ce panier?

Joyeuses Pâques de la part de Mathslibres.com!