




Œufs de Pâques dans le Panier (B)

Mettez les œufs de Pâques qui ont des sommes supérieures à 98 dans le panier.



$$\begin{array}{r} 94 \\ + 46 \\ \hline \end{array}$$



$$\begin{array}{r} 67 \\ + 76 \\ \hline \end{array}$$


$$\begin{array}{r} 47 \\ + 85 \\ \hline \end{array}$$



$$\begin{array}{r} 55 \\ + 97 \\ \hline \end{array}$$


$$\begin{array}{r} 16 \\ + 86 \\ \hline \end{array}$$



$$\begin{array}{r} 80 \\ + 48 \\ \hline \end{array}$$



$$\begin{array}{r} 55 \\ + 32 \\ \hline \end{array}$$



$$\begin{array}{r} 90 \\ + 41 \\ \hline \end{array}$$



$$\begin{array}{r} 56 \\ + 85 \\ \hline \end{array}$$


$$\begin{array}{r} 49 \\ + 20 \\ \hline \end{array}$$



$$\begin{array}{r} 4 \\ + 38 \\ \hline \end{array}$$



$$\begin{array}{r} 78 \\ + 67 \\ \hline \end{array}$$



$$\begin{array}{r} 68 \\ + 75 \\ \hline \end{array}$$



$$\begin{array}{r} 23 \\ + 43 \\ \hline \end{array}$$


$$\begin{array}{r} 55 \\ + 1 \\ \hline \end{array}$$


$$\begin{array}{r} 51 \\ + 76 \\ \hline \end{array}$$


$$\begin{array}{r} 6 \\ + 26 \\ \hline \end{array}$$


$$\begin{array}{r} 18 \\ + 4 \\ \hline \end{array}$$


$$\begin{array}{r} 10 \\ + 3 \\ \hline \end{array}$$


$$\begin{array}{r} 85 \\ + 76 \\ \hline \end{array}$$




Combien d'œufs de Pâques iront dans ce panier?

Joyeuses Pâques de la part de Mathslibres.com!


Œufs de Pâques dans le Panier (B) Réponses


Mettez les oeufs de Pâques qui ont des sommes supérieures à 98 dans le panier.



$$\begin{array}{r} 94 \\ + 46 \\ \hline 140 \end{array}$$


$$\begin{array}{r} 67 \\ + 76 \\ \hline 143 \end{array}$$



$$\begin{array}{r} 47 \\ + 85 \\ \hline 132 \end{array}$$


$$\begin{array}{r} 55 \\ + 97 \\ \hline 152 \end{array}$$



$$\begin{array}{r} 16 \\ + 86 \\ \hline 102 \end{array}$$



$$\begin{array}{r} 80 \\ + 48 \\ \hline 128 \end{array}$$



$$\begin{array}{r} 55 \\ + 32 \\ \hline 87 \end{array}$$


$$\begin{array}{r} 90 \\ + 41 \\ \hline 131 \end{array}$$



$$\begin{array}{r} 56 \\ + 85 \\ \hline 141 \end{array}$$



$$\begin{array}{r} 49 \\ + 20 \\ \hline 69 \end{array}$$



$$\begin{array}{r} 4 \\ + 38 \\ \hline 42 \end{array}$$



$$\begin{array}{r} 78 \\ + 67 \\ \hline 145 \end{array}$$


$$\begin{array}{r} 68 \\ + 75 \\ \hline 143 \end{array}$$


$$\begin{array}{r} 23 \\ + 43 \\ \hline 66 \end{array}$$



$$\begin{array}{r} 55 \\ + 1 \\ \hline 56 \end{array}$$



$$\begin{array}{r} 51 \\ + 76 \\ \hline 127 \end{array}$$


$$\begin{array}{r} 6 \\ + 26 \\ \hline 32 \end{array}$$


$$\begin{array}{r} 18 \\ + 4 \\ \hline 22 \end{array}$$


$$\begin{array}{r} 10 \\ + 3 \\ \hline 13 \end{array}$$


$$\begin{array}{r} 85 \\ + 76 \\ \hline 161 \end{array}$$



Combien d'œufs de Pâques iront dans ce panier?

12