



COMPTAGE DES ŒUX DE PÂQUES (1)

Combien d'œufs de Pâques y a-t-il dans chaque groupe?

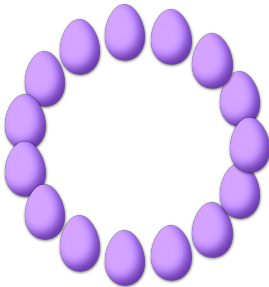
1. Il y a ____ œufs de Pâques dans le groupe ci-dessous.




2. Il y a ____ œufs de Pâques dans le groupe ci-dessous.




3. Il y a ____ œufs de Pâques dans le groupe ci-dessous.




4. Il y a ____ œufs de Pâques dans le groupe ci-dessous.



5. Il y a ____ œufs de Pâques dans le groupe ci-dessous.




6. Il y a ____ œufs de Pâques dans le groupe ci-dessous.




COMPTAGE DES ŒUX DE PÂQUES (1) RÉPONSES

Combien d'œufs de Pâques y a-t-il dans chaque groupe?

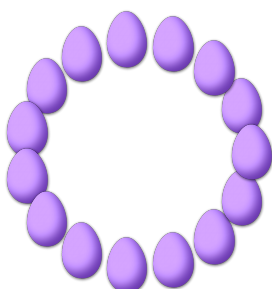
1. Il y a 11 œufs de Pâques dans le groupe ci-dessous.




2. Il y a 13 œufs de Pâques dans le groupe ci-dessous.




3. Il y a 15 œufs de Pâques dans le groupe ci-dessous.



4. Il y a 10 œufs de Pâques dans le groupe ci-dessous.



5. Il y a 12 œufs de Pâques dans le groupe ci-dessous.



6. Il y a 14 œufs de Pâques dans le groupe ci-dessous.

