




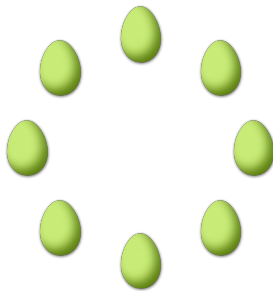
# COMPTAGE DES ŒUX DE PÂQUES (F)

Combien d'œufs de Pâques y a-t-il dans chaque groupe?


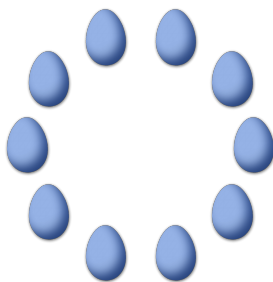
1. Il y a \_\_\_\_ œufs de Pâques dans le groupe ci-dessous.      2. Il y a \_\_\_\_ œufs de Pâques dans le groupe ci-dessous.



3. Il y a \_\_\_\_ œufs de Pâques dans le groupe ci-dessous.      4. Il y a \_\_\_\_ œufs de Pâques dans le groupe ci-dessous.




5. Il y a \_\_\_\_ œufs de Pâques dans le groupe ci-dessous.      6. Il y a \_\_\_\_ œufs de Pâques dans le groupe ci-dessous.




# COMPTAGE DES ŒUX DE PÂQUES (F) RÉPONSES

Combien d'œufs de Pâques y a-t-il dans chaque groupe?

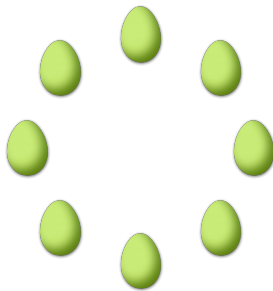
1. Il y a 5 œufs de Pâques dans le groupe ci-dessous.




2. Il y a 12 œufs de Pâques dans le groupe ci-dessous.



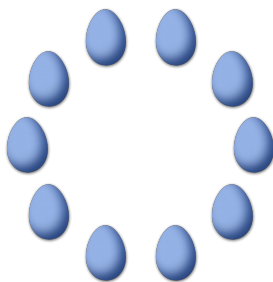
3. Il y a 8 œufs de Pâques dans le groupe ci-dessous.



4. Il y a 13 œufs de Pâques dans le groupe ci-dessous.



5. Il y a 10 œufs de Pâques dans le groupe ci-dessous.



6. Il y a 7 œufs de Pâques dans le groupe ci-dessous.

