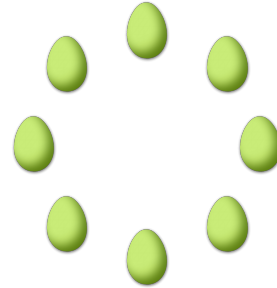



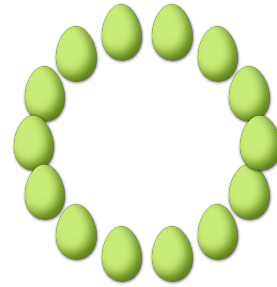

# COMPTAGE DES ŒUX DE PÂQUES (D)

Combien d'œufs de Pâques y a-t-il dans chaque groupe?

1. Il y a \_\_\_\_ œufs de Pâques dans le groupe ci-dessous.      2. Il y a \_\_\_\_ œufs de Pâques dans le groupe ci-dessous.



3. Il y a \_\_\_\_ œufs de Pâques dans le groupe ci-dessous.      4. Il y a \_\_\_\_ œufs de Pâques dans le groupe ci-dessous.



5. Il y a \_\_\_\_ œufs de Pâques dans le groupe ci-dessous.      6. Il y a \_\_\_\_ œufs de Pâques dans le groupe ci-dessous.

