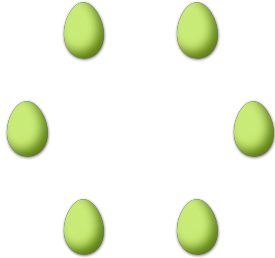



COMPTAGE DES ŒUX DE PÂQUES (B)

Combien d'œufs de Pâques y a-t-il dans chaque groupe?

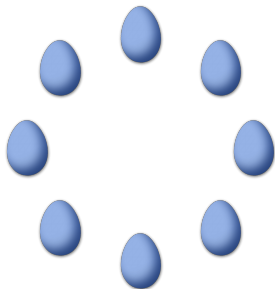
1. Il y a ____ œufs de Pâques dans le groupe ci-dessous.




2. Il y a ____ œufs de Pâques dans le groupe ci-dessous.




3. Il y a ____ œufs de Pâques dans le groupe ci-dessous.



4. Il y a ____ œufs de Pâques dans le groupe ci-dessous.



5. Il y a ____ œufs de Pâques dans le groupe ci-dessous.



6. Il y a ____ œufs de Pâques dans le groupe ci-dessous.

