
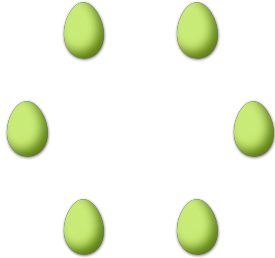



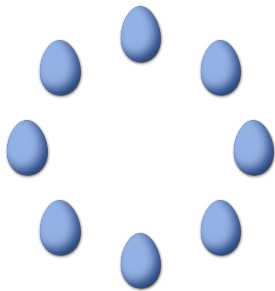
COMPTAGE DES ŒUX DE PÂQUES (B)

Combien d'œufs de Pâques y a-t-il dans chaque groupe?



1. Il y a ____ œufs de Pâques dans le groupe ci-dessous. 2. Il y a ____ œufs de Pâques dans le groupe ci-dessous.



3. Il y a ____ œufs de Pâques dans le groupe ci-dessous. 4. Il y a ____ œufs de Pâques dans le groupe ci-dessous.



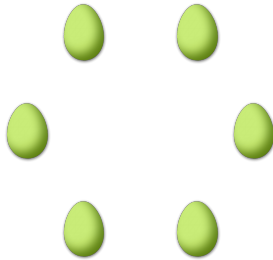
5. Il y a ____ œufs de Pâques dans le groupe ci-dessous. 6. Il y a ____ œufs de Pâques dans le groupe ci-dessous.



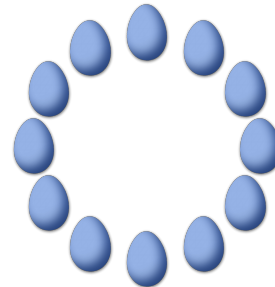
COMPTAGE DES ŒUX DE PÂQUES (B) RÉPONSES

Combien d'œufs de Pâques y a-t-il dans chaque groupe?

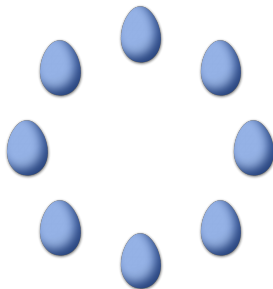
1. Il y a 6 œufs de Pâques dans le groupe ci-dessous.




2. Il y a 12 œufs de Pâques dans le groupe ci-dessous.




3. Il y a 8 œufs de Pâques dans le groupe ci-dessous.



4. Il y a 10 œufs de Pâques dans le groupe ci-dessous.



5. Il y a 11 œufs de Pâques dans le groupe ci-dessous.



6. Il y a 5 œufs de Pâques dans le groupe ci-dessous.

