











## QU'EST-CE QUE LE CADEAU? (€)

Quel nombre se trouve dans chaque cadeau?

980 - 230 = 	784 - 23 = 	1,270 - 411 = 
588 - 284 = 	1,530 - 536 = 	1,079 - 590 = 
1,510 - 676 = 	369 - 98 = 	1,236 - 839 = 
1,355 - 404 = 	1,014 - 176 = 	1,359 - 661 = 
451 - 180 = 	683 - 620 = 	1,132 - 413 = 
1,345 -  = 925	1,699 -  = 910	1,156 -  = 783
963 -  = 20	1,303 -  = 753	769 -  = 47
673 -  = 239	1,306 -  = 984	1,053 -  = 625
529 -  = 420	1,450 -  = 951	1,380 -  = 723
1,657 -  = 924	531 -  = 502	311 -  = 213
 - 461 = 817	 - 406 = 168	 - 318 = 23
 - 561 = 128	 - 946 = 236	 - 735 = 801
 - 402 = 217	 - 404 = 16	 - 964 = 356
 - 181 = 53	 - 887 = 79	 - 748 = 503
 - 983 = 701	 - 397 = 276	 - 710 = 794

# QU'EST-CE QUE LE CADEAU? (€) SOLUTIONS

Quel nombre se trouve dans chaque cadeau?

$980 - 230 =$	<b>750</b>	$784 - 23 =$	<b>761</b>	$1,270 - 411 =$	<b>859</b>
$588 - 284 =$	<b>304</b>	$1,530 - 536 =$	<b>994</b>	$1,079 - 590 =$	<b>489</b>
$1,510 - 676 =$	<b>834</b>	$369 - 98 =$	<b>271</b>	$1,236 - 839 =$	<b>397</b>
$1,355 - 404 =$	<b>951</b>	$1,014 - 176 =$	<b>838</b>	$1,359 - 661 =$	<b>698</b>
$451 - 180 =$	<b>271</b>	$683 - 620 =$	<b>63</b>	$1,132 - 413 =$	<b>719</b>
$1,345 -$	<b>420</b>	$= 925$	$1,699 -$	<b>789</b>	$= 910$
$963 -$	<b>943</b>	$= 20$	$1,303 -$	<b>550</b>	$= 753$
$673 -$	<b>434</b>	$= 239$	$1,306 -$	<b>322</b>	$= 984$
$529 -$	<b>109</b>	$= 420$	$1,450 -$	<b>499</b>	$= 951$
$1,657 -$	<b>733</b>	$= 924$	$531 -$	<b>29</b>	$= 502$
$1,278 -$	<b>461</b>	$= 817$	$574 -$	<b>406</b>	$= 168$
$689 -$	<b>561</b>	$= 128$	$1,182 -$	<b>946</b>	$= 236$
$619 -$	<b>402</b>	$= 217$	$420 -$	<b>404</b>	$= 16$
$234 -$	<b>181</b>	$= 53$	$966 -$	<b>887</b>	$= 79$
$1,684 -$	<b>983</b>	$= 701$	$673 -$	<b>397</b>	$= 276$
				<b>341</b>	$- 318 = 23$
				<b>1,536</b>	$- 735 = 801$
				<b>1,320</b>	$- 964 = 356$
				<b>1,251</b>	$- 748 = 503$
				<b>1,504</b>	$- 710 = 794$