


QU'EST-CE QUE LE CADEAU? (A)

Quel nombre se trouve dans chaque cadeau?

$104 - 98 =$ 

$55 - 40 =$ 

$61 - 2 =$ 

$189 - 92 =$ 

$121 - 65 =$ 

$65 -$  $= 40$


$107 -$  $= 11$


$184 -$  $= 94$


$124 -$  $= 52$


$155 -$  $= 68$


$$  $- 24 = 32$

$$  $- 10 = 38$

$$  $- 12 = 68$

$$  $- 91 = 49$

$$  $- 14 = 20$

$60 - 10 =$ 

$56 - 38 =$ 

$123 - 37 =$ 

$6 - 2 =$ 

$146 - 66 =$ 

$111 -$  $= 65$

$163 -$  $= 97$


$56 -$  $= 23$

$102 -$  $= 72$

$79 -$  $= 24$

$$  $- 35 = 60$

$$  $- 21 = 28$

$$  $- 84 = 53$

$$  $- 49 = 29$

$$  $- 73 = 24$

$31 - 25 =$ 

$108 - 88 =$ 

$23 - 20 =$ 

$60 - 20 =$ 

$96 - 94 =$ 

$117 -$  $= 67$


$115 -$  $= 38$

$144 -$  $= 53$


$87 -$  $= 15$


$75 -$  $= 36$

$$  $- 71 = 38$

$$  $- 98 = 74$

$$  $- 6 = 6$

$$  $- 12 = 56$

$$  $- 94 = 3$