


## QU'EST-CE QUE LE CADEAU? (H)


Quel nombre se trouve dans chaque cadeau?

$47 - 12 =$  

$57 - 35 =$  

$77 - 33 =$  

$42 - 19 =$  

$25 - 11 =$  

$66 -$    $= 20$


$50 -$    $= 35$

$51 -$    $= 40$


$65 -$    $= 46$


$78 -$    $= 39$

$$    $- 17 = 29$

$$    $- 15 = 41$

$$    $- 40 = 35$


$$    $- 16 = 23$

$$    $- 3 = 28$

$41 - 4 =$  

$68 - 39 =$  

$65 - 20 =$  

$13 - 10 =$  

$91 - 47 =$  

$51 -$    $= 30$

$59 -$    $= 30$

$50 -$    $= 45$


$13 -$    $= 8$

$31 -$    $= 3$

$$    $- 5 = 30$

$$    $- 3 = 40$

$$    $- 37 = 14$

$$    $- 39 = 9$


$$    $- 36 = 44$

$38 - 20 =$  

$51 - 34 =$  

$47 - 41 =$  

$47 - 18 =$  

$20 - 9 =$  

$73 -$    $= 49$

$26 -$    $= 10$

$68 -$    $= 22$


$36 -$    $= 30$


$47 -$    $= 42$

$$    $- 15 = 45$

$$    $- 7 = 28$

$$    $- 34 = 9$

$$    $- 9 = 25$

$$    $- 16 = 47$