


QU'EST-CE QUE LE CADEAU? (€)


Quel nombre se trouve dans chaque cadeau?

$51 - 16 =$ 

$17 - 10 =$ 

$46 - 44 =$ 

$29 - 24 =$ 

$46 - 12 =$ 

$85 -$  $= 43$


$82 -$  $= 34$


$42 -$  $= 12$

$66 -$  $= 18$

$39 -$  $= 8$

 $- 34 = 10$

 $- 8 = 27$


 $- 14 = 34$


 $- 46 = 23$


 $- 30 = 31$

$64 - 46 =$ 

$56 - 17 =$ 

$55 - 18 =$ 

$69 - 29 =$ 

$56 - 19 =$ 


$78 -$  $= 42$

$94 -$  $= 49$

$44 -$  $= 5$

$54 -$  $= 47$

$50 -$  $= 31$

 $- 27 = 25$


 $- 35 = 10$

 $- 20 = 37$

 $- 32 = 39$


 $- 24 = 49$

$72 - 27 =$ 

$40 - 13 =$ 

$74 - 28 =$ 

$14 - 3 =$ 

$34 - 16 =$ 

$80 -$  $= 34$

$33 -$  $= 21$

$80 -$  $= 36$

$70 -$  $= 31$


$97 -$  $= 49$

 $- 21 = 17$

 $- 41 = 11$

 $- 48 = 27$

 $- 24 = 24$

 $- 16 = 10$