


QU'EST-CE QUE LE CADEAU? (B)

Quel nombre se trouve dans chaque cadeau?

$55 - 15 =$ 

$55 - 40 =$ 

$30 - 26 =$ 

$56 - 7 =$ 

$24 - 18 =$ 

$36 -$  $= 22$

$25 -$  $= 11$

$32 -$  $= 29$


$40 -$  $= 2$


$51 -$  $= 36$

$$  $- 6 = 37$

$$  $- 22 = 35$

$$  $- 34 = 10$


$$  $- 2 = 31$

$$  $- 42 = 12$

$75 - 30 =$ 

$63 - 32 =$ 

$17 - 7 =$ 

$37 - 18 =$ 

$69 - 24 =$ 

$72 -$  $= 40$

$80 -$  $= 35$


$60 -$  $= 42$


$44 -$  $= 5$


$50 -$  $= 21$

$$  $- 11 = 5$

$$  $- 28 = 35$

$$  $- 33 = 19$

$$  $- 9 = 30$

$$  $- 9 = 48$

$26 - 11 =$ 

$34 - 25 =$ 

$50 - 14 =$ 

$92 - 47 =$ 

$53 - 30 =$ 


$56 -$  $= 28$

$62 -$  $= 44$

$58 -$  $= 21$


$57 -$  $= 44$

$76 -$  $= 38$

$$  $- 4 = 29$

$$  $- 40 = 27$

$$  $- 46 = 18$

$$  $- 21 = 19$

$$  $- 47 = 24$