



# QU'EST-CE QUE LE CADEAU? (€)

Quel nombre se trouve dans chaque cadeau?

$14 - 9 =$  

$34 - 13 =$  

$16 - 10 =$  

$40 - 18 =$  

$20 - 3 =$  

$16 -$    $= 2$


$41 -$    $= 24$


$32 -$    $= 25$


$43 -$    $= 18$


$21 -$    $= 5$


  $- 7 = 9$

  $- 14 = 22$


  $- 11 = 20$

  $- 13 = 7$

  $- 9 = 16$

$28 - 9 =$  

$9 - 7 =$  

$32 - 21 =$  

$33 - 18 =$  

$28 - 7 =$  

$27 -$    $= 6$

$31 -$    $= 21$


$33 -$    $= 20$


$29 -$    $= 16$


$22 -$    $= 18$

  $- 25 = 18$


  $- 23 = 19$


  $- 18 = 8$

  $- 14 = 21$

  $- 13 = 5$

$23 - 7 =$  

$34 - 11 =$  

$34 - 19 =$  

$31 - 7 =$  

$11 - 3 =$  

$14 -$    $= 12$


$34 -$    $= 21$


$31 -$    $= 17$


$30 -$    $= 22$


$29 -$    $= 24$

  $- 16 = 10$

  $- 6 = 2$

  $- 11 = 6$

  $- 6 = 17$

  $- 16 = 17$