

## QU'EST-CE QUE LE CADEAU? (B)

Quel nombre se trouve dans chaque cadeau?

$36 - 11 =$  

$34 - 24 =$  

$40 - 20 =$  

$46 - 23 =$  

$26 - 14 =$  

$37 -$    $= 25$


$38 -$    $= 16$


$29 -$    $= 11$


$49 -$    $= 24$


$18 -$    $= 5$


$$    $- 20 = 18$

$$    $- 2 = 15$

$$    $- 19 = 5$


$$    $- 19 = 15$


$$    $- 19 = 4$

$27 - 10 =$  

$11 - 4 =$  

$14 - 12 =$  

$35 - 18 =$  

$42 - 17 =$  

$27 -$    $= 8$


$10 -$    $= 6$


$37 -$    $= 19$

$28 -$    $= 7$


$16 -$    $= 9$

$$    $- 7 = 4$

$$    $- 12 = 22$

$$    $- 15 = 11$


$$    $- 22 = 3$


$$    $- 15 = 17$

$30 - 23 =$  

$34 - 25 =$  

$14 - 3 =$  

$35 - 13 =$  

$42 - 18 =$  

$9 -$    $= 4$

$31 -$    $= 9$

$27 -$    $= 14$


$14 -$    $= 7$

$28 -$    $= 7$

$$    $- 5 = 23$

$$    $- 24 = 10$

$$    $- 24 = 23$

$$    $- 8 = 8$

$$    $- 8 = 21$