


QU'EST-CE QUE LE CADEAU? (J)

Quel nombre se trouve dans chaque cadeau?

$16 - 9 =$ 

$8 - 2 =$ 

$9 - 7 =$ 

$14 - 6 =$ 

$11 - 7 =$ 

$12 -$  $= 9$

$15 -$  $= 7$

$11 -$  $= 2$

$16 -$  $= 9$


$7 -$  $= 5$

 $- 6 = 6$

 $- 6 = 4$

 $- 6 = 5$

 $- 5 = 8$


 $- 4 = 7$

$7 - 2 =$ 

$15 - 7 =$ 

$15 - 8 =$ 

$10 - 2 =$ 

$17 - 8 =$ 

$12 -$  $= 9$


$14 -$  $= 9$


$16 -$  $= 7$


$17 -$  $= 9$


$8 -$  $= 5$

 $- 2 = 5$

 $- 9 = 5$

 $- 8 = 5$

 $- 9 = 4$


 $- 9 = 9$

$9 - 4 =$ 

$11 - 4 =$ 

$15 - 7 =$ 

$10 - 4 =$ 

$10 - 7 =$ 

$6 -$  $= 4$

$13 -$  $= 8$

$17 -$  $= 8$

$9 -$  $= 6$

$14 -$  $= 6$

 $- 4 = 3$

 $- 7 = 9$

 $- 8 = 6$

 $- 5 = 6$

 $- 5 = 9$