


QU'EST-CE QUE LE CADEAU? (G)

Quel nombre se trouve dans chaque cadeau?

$15 - 8 =$ 

$14 - 7 =$ 

$8 - 5 =$ 

$13 - 7 =$ 

$7 - 3 =$ 

$9 -$  $= 4$


$15 -$  $= 9$

$9 -$  $= 3$

$11 -$  $= 4$

$5 -$  $= 2$

$$  $- 7 = 5$


$$  $- 9 = 3$

$$  $- 8 = 5$

$$  $- 2 = 5$


$$  $- 4 = 3$

$15 - 8 =$ 

$5 - 3 =$ 

$15 - 8 =$ 

$12 - 4 =$ 

$18 - 9 =$ 

$10 -$  $= 5$


$9 -$  $= 7$


$5 -$  $= 2$

$17 -$  $= 9$


$11 -$  $= 8$


$$  $- 3 = 9$


$$  $- 9 = 9$

$$  $- 9 = 7$


$$  $- 4 = 7$

$$  $- 9 = 3$

$11 - 3 =$ 

$13 - 9 =$ 

$14 - 7 =$ 

$13 - 5 =$ 

$11 - 2 =$ 

$10 -$  $= 4$


$4 -$  $= 2$


$8 -$  $= 3$

$12 -$  $= 9$

$16 -$  $= 8$

$$  $- 5 = 8$

$$  $- 5 = 9$

$$  $- 5 = 2$

$$  $- 7 = 9$

$$  $- 2 = 8$