














































QU'EST-CE QUE LE CADEAU? (D)

Quel nombre se trouve dans chaque cadeau?

| | | |
|--|--|---|
| 9 - 6 =  | 6 - 2 =  | 4 - 2 =  |
| 9 - 6 =  | 16 - 9 =  | 8 - 2 =  |
| 9 - 4 =  | 18 - 9 =  | 10 - 2 =  |
| 8 - 6 =  | 10 - 6 =  | 18 - 9 =  |
| 10 - 3 =  | 11 - 8 =  | 15 - 7 =  |
| 7 -  = 2 | 7 -  = 2 | 11 -  = 5 |
| 6 -  = 4 | 6 -  = 2 | 9 -  = 2 |
| 10 -  = 6 | 13 -  = 6 | 6 -  = 3 |
| 9 -  = 2 | 11 -  = 9 | 8 -  = 5 |
| 12 -  = 7 | 12 -  = 5 | 9 -  = 2 |
|  - 7 = 5 |  - 9 = 3 |  - 8 = 3 |
|  - 3 = 3 |  - 3 = 3 |  - 7 = 3 |
|  - 9 = 9 |  - 5 = 5 |  - 4 = 5 |
|  - 8 = 5 |  - 7 = 7 |  - 9 = 4 |
|  - 6 = 7 |  - 6 = 6 |  - 4 = 7 |