














































QU'EST-CE QUE LE CADEAU? (D)

Quel nombre se trouve dans chaque cadeau?

9 - 6 = 	6 - 2 = 	4 - 2 = 
9 - 6 = 	16 - 9 = 	8 - 2 = 
9 - 4 = 	18 - 9 = 	10 - 2 = 
8 - 6 = 	10 - 6 = 	18 - 9 = 
10 - 3 = 	11 - 8 = 	15 - 7 = 
7 -  = 2	7 -  = 2	11 -  = 5
6 -  = 4	6 -  = 2	9 -  = 2
10 -  = 6	13 -  = 6	6 -  = 3
9 -  = 2	11 -  = 9	8 -  = 5
12 -  = 7	12 -  = 5	9 -  = 2
 - 7 = 5	 - 9 = 3	 - 8 = 3
 - 3 = 3	 - 3 = 3	 - 7 = 3
 - 9 = 9	 - 5 = 5	 - 4 = 5
 - 8 = 5	 - 7 = 7	 - 9 = 4
 - 6 = 7	 - 6 = 6	 - 4 = 7

QU'EST-CE QUE LE CADEAU? (D) SOLUTIONS

Quel nombre se trouve dans chaque cadeau?

9	-	6	=	3		6	-	2	=	4		4	-	2	=	2
9	-	6	=	3		16	-	9	=	7		8	-	2	=	6
9	-	4	=	5		18	-	9	=	9		10	-	2	=	8
8	-	6	=	2		10	-	6	=	4		18	-	9	=	9
10	-	3	=	7		11	-	8	=	3		15	-	7	=	8
7	-	5	=	2		7	-	5	=	2		11	-	6	=	5
6	-	2	=	4		6	-	4	=	2		9	-	7	=	2
10	-	4	=	6		13	-	7	=	6		6	-	3	=	3
9	-	7	=	2		11	-	2	=	9		8	-	3	=	5
12	-	5	=	7		12	-	7	=	5		9	-	7	=	2
12	-	7	=	5		12	-	9	=	3		11	-	8	=	3
6	-	3	=	3		6	-	3	=	3		10	-	7	=	3
18	-	9	=	9		10	-	5	=	5		9	-	4	=	5
13	-	8	=	5		14	-	7	=	7		13	-	9	=	4
13	-	6	=	7		12	-	6	=	6		11	-	4	=	7