




QU'EST-CE QUE LE CADEAU? (H)


Quel nombre se trouve dans chaque cadeau?

$27 \div 3 =$ 

$20 \div 10 =$ 

$27 \div 9 =$ 

$80 \div 8 =$ 

$18 \div 3 =$ 

$36 \div$  $= 9$


$60 \div$  $= 6$

$56 \div$  $= 8$

$60 \div$  $= 6$


$27 \div$  $= 9$


$$  $\div 7 = 2$

$$  $\div 9 = 4$

$$  $\div 5 = 6$

$$  $\div 3 = 8$


$$  $\div 8 = 9$

$18 \div 9 =$ 

$32 \div 4 =$ 

$16 \div 2 =$ 

$40 \div 4 =$ 

$45 \div 9 =$ 

$48 \div$  $= 6$


$10 \div$  $= 5$


$24 \div$  $= 3$


$28 \div$  $= 7$


$27 \div$  $= 3$

$$  $\div 4 = 10$


$$  $\div 5 = 5$

$$  $\div 4 = 3$


$$  $\div 9 = 8$


$$  $\div 9 = 4$

$35 \div 7 =$ 

$60 \div 10 =$ 

$12 \div 4 =$ 

$50 \div 10 =$ 

$100 \div 10 =$ 


$6 \div$  $= 2$


$72 \div$  $= 9$


$24 \div$  $= 6$


$24 \div$  $= 4$


$90 \div$  $= 9$

$$  $\div 3 = 6$

$$  $\div 2 = 2$

$$  $\div 2 = 4$

$$  $\div 3 = 6$

$$  $\div 3 = 8$