


# QU'EST-CE QUE LE CADEAU? (I)

Quel nombre se trouve dans chaque cadeau?

$54 \div 6 =$  

$56 \div 8 =$  

$6 \div 3 =$  

$14 \div 7 =$  

$28 \div 7 =$  

$16 \div$    $= 2$

$36 \div$    $= 9$

$4 \div$    $= 2$


$36 \div$    $= 9$


$72 \div$    $= 9$


  $\div 2 = 5$


  $\div 8 = 5$

  $\div 5 = 9$

  $\div 3 = 5$

  $\div 9 = 3$

$54 \div 9 =$  

$45 \div 9 =$  

$15 \div 3 =$  

$40 \div 5 =$  

$18 \div 3 =$  

$32 \div$    $= 8$


$24 \div$    $= 6$


$36 \div$    $= 4$


$32 \div$    $= 8$


$35 \div$    $= 5$

  $\div 3 = 6$

  $\div 5 = 5$

  $\div 8 = 8$

  $\div 5 = 4$

  $\div 5 = 2$

$30 \div 5 =$  

$12 \div 4 =$  

$18 \div 2 =$  

$10 \div 2 =$  

$20 \div 5 =$  

$12 \div$    $= 4$

$10 \div$    $= 5$


$16 \div$    $= 8$


$64 \div$    $= 8$


$40 \div$    $= 8$

  $\div 8 = 7$

  $\div 5 = 9$

  $\div 2 = 7$

  $\div 4 = 2$

  $\div 6 = 3$