


QU'EST-CE QUE LE CADEAU? (C)

Quel nombre se trouve dans chaque cadeau?

$18 \div 6 =$ 

$40 \div 5 =$ 

$14 \div 2 =$ 

$21 \div 3 =$ 

$28 \div 7 =$ 

$40 \div$  $= 8$

$25 \div$  $= 5$

$20 \div$  $= 4$

$10 \div$  $= 2$


$6 \div$  $= 3$

$$  $\div 2 = 6$

$$  $\div 8 = 6$

$$  $\div 6 = 5$

$$  $\div 4 = 7$

$$  $\div 8 = 3$

$32 \div 4 =$ 

$12 \div 2 =$ 

$32 \div 8 =$ 

$28 \div 4 =$ 

$32 \div 8 =$ 


$28 \div$  $= 7$


$28 \div$  $= 4$


$24 \div$  $= 4$


$32 \div$  $= 4$


$20 \div$  $= 5$

$$  $\div 5 = 8$

$$  $\div 6 = 7$

$$  $\div 7 = 5$

$$  $\div 4 = 7$

$$  $\div 5 = 7$

$32 \div 8 =$ 

$28 \div 7 =$ 

$32 \div 4 =$ 

$21 \div 3 =$ 

$14 \div 2 =$ 

$15 \div$  $= 3$


$12 \div$  $= 4$


$4 \div$  $= 2$


$6 \div$  $= 3$


$20 \div$  $= 4$

$$  $\div 8 = 3$

$$  $\div 8 = 6$

$$  $\div 7 = 3$

$$  $\div 4 = 2$

$$  $\div 6 = 8$